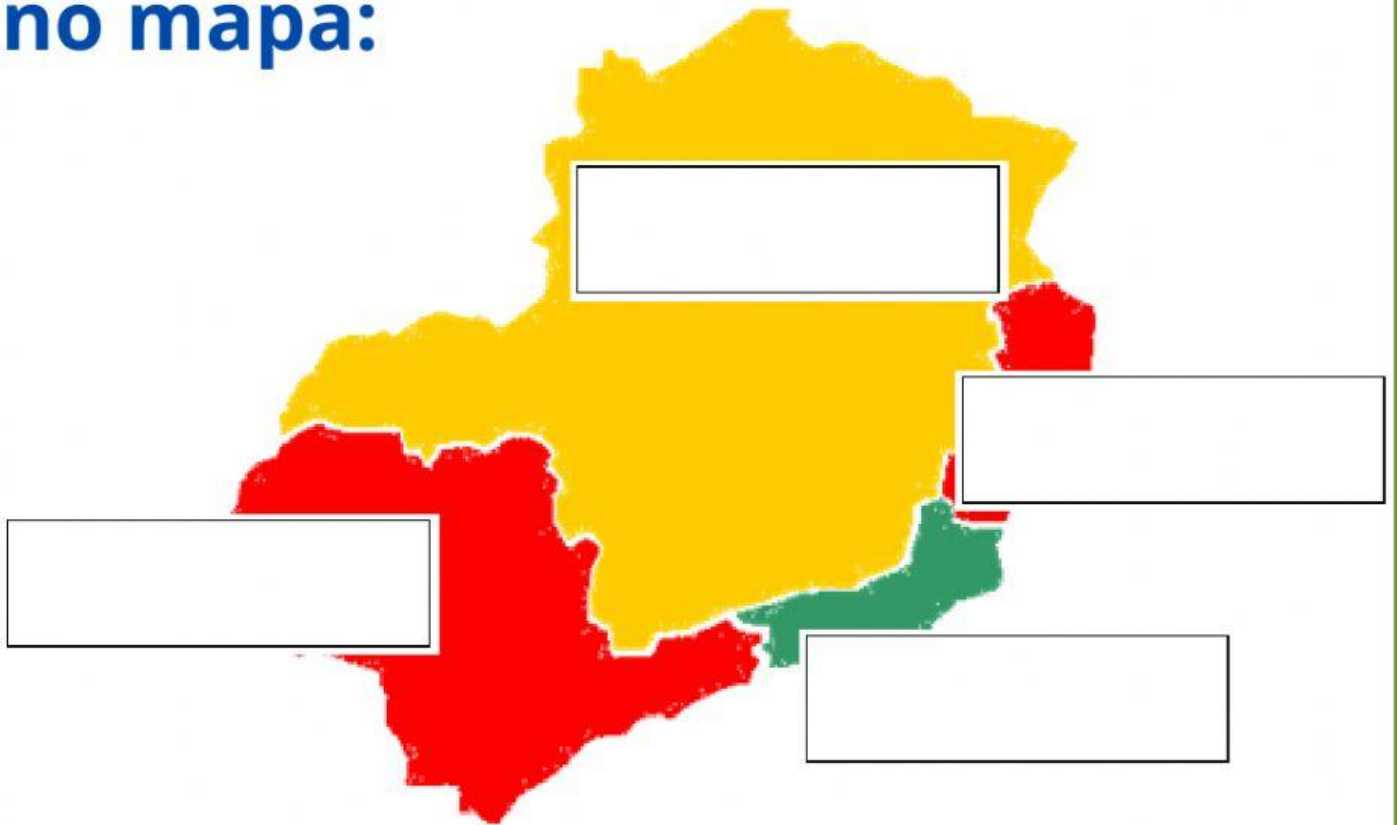


# REGIÃO SUDESTE

Arraste cada estado ao seu lugar no mapa:



**Rio de Janeiro**

**São Paulo**

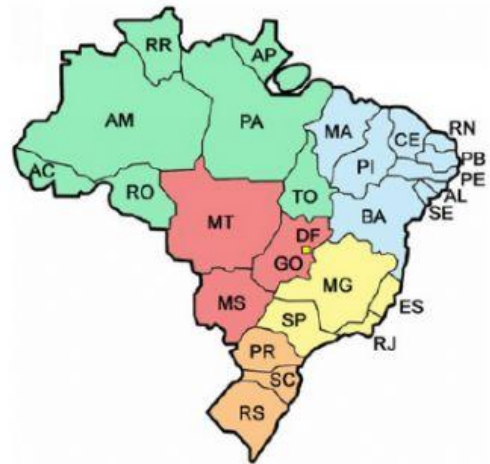
**Minas Gerais**

**Espírito Santo**

Clique na alternativa correta:

A região Sudeste tem quantos estados?

- (a) 04
- (b) 05
- (c) 03
- (d) 06



Marque a alternativa onde só tem estados que pertencem à região Sudeste:

- (a) Roraima - Pará - Amapá - Amazonas - Rondônia - Tocantins - Acre
- (b) Maranhão - Pará - Pernambuco - Amazonas - São Paulo - Tocantins - Paraná
- (c) Rio de Janeiro - São Paulo - Minas Gerais - Espírito Santo
- (d) Mato Grosso - Rio Grande do Norte - Pernambuco - Amazonas - São Paulo - Piauí - Paraná

# Arraste as capitais até seus respectivos estados




**Rio de Janeiro**

**São Paulo**

**Belo Horizonte**

**Vitória**

# Ligue os estados às suas capitais:



**Rio de Janeiro**

**Vitória**

**São Paulo**

**Belo Horizonte**

**Minas Gerais**

**Rio de Janeiro**

**Espírito Santo**

**São Paulo**

