






Números 0 al 100

Nombre: _____ Curso: _____

Objetivo: Reconocer números del 0 al 100.

1. Observa las siguientes unidades y decenas, luego escribe a bajo de cada recuadro cuál es el número que representan?



2. Completa la secuencia numérica escribiendo el número que falta.

71		73		75			78		80
	82			85		87	88		
	92		94			97		99	

3. Resuelve los siguientes problemas matemáticos.

A) ¿Cuántas flores tengo en total, si en cada florero tiene 10 rosas? Selecciona la respuesta correcta




60

50

70

B) ¿Cuántos impostores tengo en esta imagen?



90

70

80

4. Une según corresponda.



11



20



66



52



92