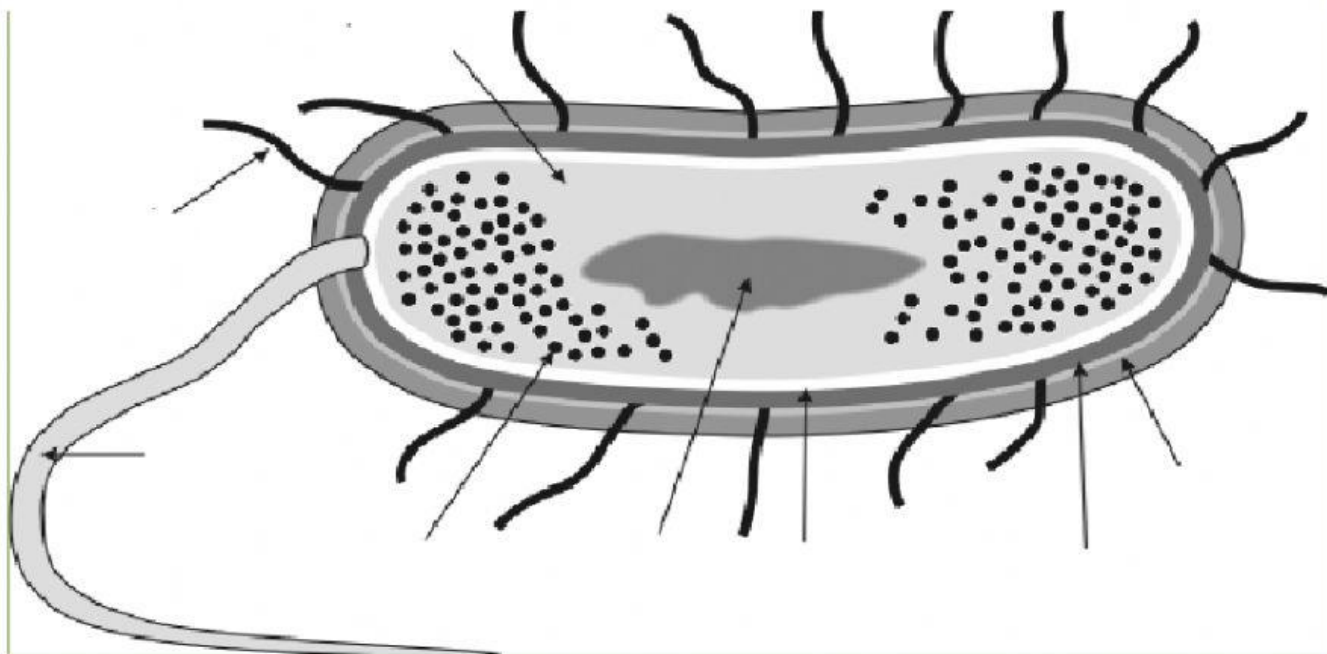







UNIDAD EDUCATIVA PARTICULAR GIORDANO BRUNO
CIENCIAS NATURALES, NOVENO – PRIMER QUIMESTRE
SEGUNDO PARCIAL – TERCER TALLER

NOMBRE

1.- Complete el siguiente grafico con las partes de una bacteria



2) Relacione con una línea la clasificación de las bacterias según su forma

-  Son bacterias con forma de bacilo corto, posee un único flagelo
-  Son bacterias filiformes, es decir, con forma de hilo y espiral
-  Son bacterias con forma de bastón
-  Son bacterias con forma esférica
-  Son bacterias con forma de bastón de gran tamaño

Cocos

Bacilos

Espirilos

Espiroquetas

Vibriones

3) Escriba V o F según corresponda

- a. Las bacterias autótrofas son aquellas que se alimentan a partir de otros organismos
- b. Las bacterias heterótrofas son aquellas que producen sus propias sustancias
- c. Las bacterias solo pueden enfermar humanos
- d. Los antibióticos solo son efectivos en contra de los virus