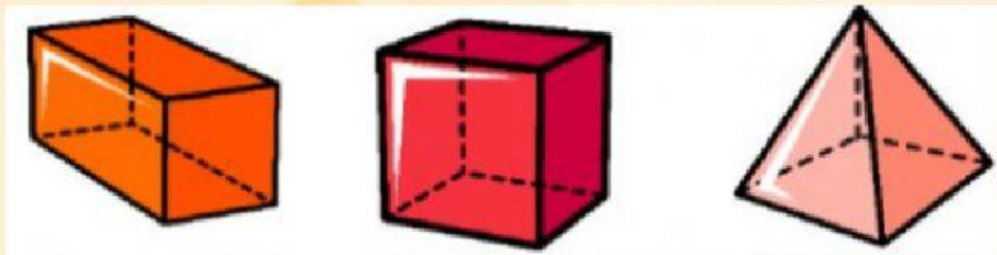
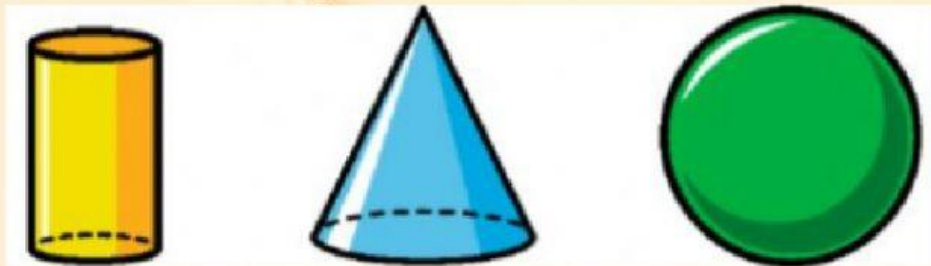


# Grupo laranja- semana 1

## Sólidos Geométricos

Assista ao vídeo abaixo com atenção e depois responda às três perguntas desta tarefa.

1- Arraste os nomes dos sólidos geométricos abaixo:



CONE

Pirâmide

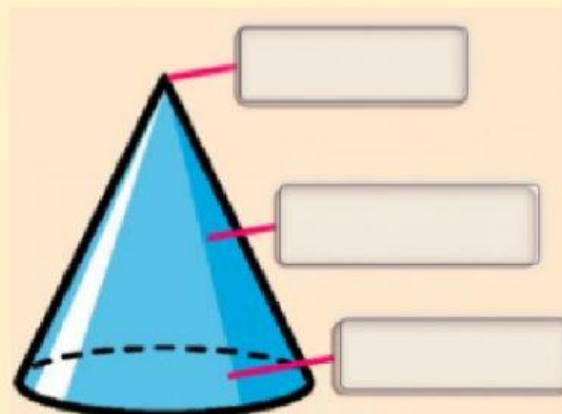
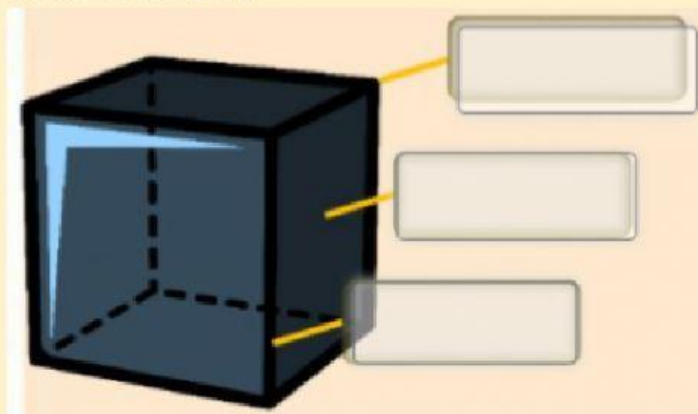
esfera

cilindro

prisma

cubo

2- Escreva o nome das partes dos sólidos geométricos abaixo (copie das opções da tabela abaixo da imagem)



VÉRTICE    ARESTA    GERATRIZ    FACE LATERAL    BASE

3- Escreva o nome do sólido geométrico cuja forma se assemelha com cada uma das imagens abaixo:














cilindro    cubo    cone    esfera