

NOME: _____

TURMA: _____ DATA: _____

RECUPERAÇÃO PARALELA



OUÇA A LEITURA FEITA PELA PROFESSORA DO
ENUNCIADA DE CADA QUESTÃO, RESOLVA EM SEU
CADERNO E DIGITE A RESPOSTA

SITUAÇÃO PROBLEMA

MAGALI DESENHOU PARA SUA PROFESSORA 4 ABACAXIS E 3
MELANCIAS. QUANTAS FRUTAS ELA DESENHOU?



ROSINHA ENCONTROU UM NINHO COM 3 PASSARINHOS.
CHEGARAM MAIS 6. QUANTOS PASSARINHOS TEM NO TOTAL?



NO SÍTIO DE CHICO BENTO TEM 5 GALINHAS E 3 VACAS.
QUANTOS ANIMAIS ELE TEM AO TODO?




MAGALI PLANTOU PELA MANHÃ NO SEU JARDIM 6 FLORES E A
TARDE MAIS 3. QUANTAS FLORES TEM NO JARDIM DELA?




SITUAÇÃO PROBLEMA

HIRO ADORA FRUTAS. NO SÍTIO ONDE ELE MORA ELE COLHEU 6 CAJUS E 5 MAÇÃS. QUANTAS FRUTAS ELE COLHEU AO TODO?



MAGALI E DORINHA SAÍRAM PARA A FEIRA E COMPRARAM 4 ABOBRINHAS E 5 BERINJELAS. QUANTOS LEGUMES ELAS COMPRARAM JUNTAS?



NA FESTA DE ANIVERSÁRIO DO CEBOLINHA FORAM 8 MENINAS E 3 MENINOS. QUANTAS CRIANÇAS FORAM NESTA FESTA?




NO SUPERMERCADO MAGALI COMPROU 2 ABACAXIS E 3 MAÇÃS. QUANTAS FRUTAS ELA COMPROU?




SITUAÇÃO PROBLEMA

FRANJINHA FEZ 5 BOLHAS DE SABÃO GRANDES E 5 PEQUENAS.
QUANTAS BOLHAS ELE FEZ NO TOTAL?



NO JOGO DE XADREZ 'CEBOLINHA' FEZ 2 PONTOS E CASCÃO FEZ 8.
QUANTOS PONTOS ELES FIZERAM JUNTOS?



CHICO BENTO SAIU PARA PÊSCARIA . NO RIO TINHA 2 PEIXES E ELE
PESCOU 1. QUANTOS PEIXES TEM AO TODO?



A TURMINHA ESTÁ JOGANDO CARTAS. AS MENINAS FIZERAM 9
PONTOS E OS MENINOS 3 . QUANTOS PONTOS ELES FIZERAM NO
TOTAL?

