



## LATIHAN SOAL MATEMATIKA KELAS 1

### (Membandingkan Banyak Benda)

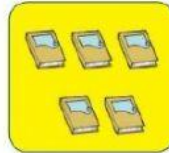
Nama :

Kelas :

Nomor Presensi :

Pilihlah satu jawaban yang paling benar!

1. Tas .... buku



- a. lebih banyak dari
- b. Lebih sedikit dari
- c. Sama banyak

2. Apel .... Pisang




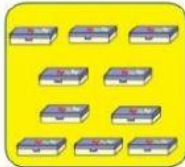
- a. Lebih banyak dari
- b. Lebih sedikit dari
- c. Sama banyak

3. Seragam .... Pensil





- a. Lebih banyak dari
- b. Lebih sedikit dari
- c. Sama banyak

4. Kotak pensil ... apel



- a. Lebih banyak dari
- b. Lebih sedikit dari
- c. Sama banyak

5. Leci ... stroberi



- a. Lebih banyak dari
- b. Lebih sedikit dari
- c. Sama banyak

6.

**8**

**1**

Tanda perbandingan untuk bilangan di atas yang benar adalah ...

- a. <
- b. >
- c. =

7.

**6**

**6**

Tanda perbandingan untuk bilangan di atas yang benar adalah ...

- a. <
- b. >
- c. =

8.

**3**

**9**

Tanda perbandingan untuk bilangandi atas yang benar adalah ...

- a. <
- b. >
- c. =

9.

**2**

**4**

Tanda perbandingan untuk bilangan di atas yang benar adalah ...

- a. <
- b. >
- c. =

10.

**7**

**1**

Tanda perbandingan untuk bilangan di atas yang benar adalah ...

- a. <
- b. >
- c. =

**Alhamdulillah**

**Aku bisa....!!!**