

Penilaian Harian I

Hari / Tanggal : Nama Siswa :


Tema : 1. Diriku Kelas : 1 - ...

Muatan Pelajaran : Matematika No Absen :

I. Pilihan Ganda!

KD 3.1

1. Perhatikan gambar berikut ini!



Banyaknya jeruk di atas adalah

- a. tiga
- b. empat
- c. lima

2. Perhatikan gambar berikut ini!



Banyaknya pensil di atas adalah

- a. 5
- b. 6
- c. 7

3. Aqeela memiliki delapan donat.

Gambar yang tepat adalah



KD 3.2

4. **mata**

Banyaknya huruf pada kata di atas adalah

a. 2

b. 4

c. 6



Jari yang tegak ada

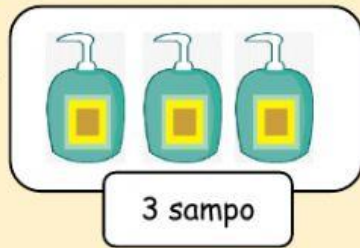
a. tiga

b. empat

c. lima

KD 3.3


6.



Perbandingan yang tepat untuk gambar di atas adalah

- a. kurang dari
- b. sama dengan
- c. lebih dari


7.



Perbandingan yang tepat untuk bilangan di atas adalah

- a. kurang dari
- b. sama dengan
- c. lebih dari

8. Perhatikan bilangan-bilangan berikut ini!




Bilangan yang tepat untuk mengisi bagian yang kosong adalah

- a. 4 dan 6
- b. 6 dan 8
- c. 7 dan 8

KD 3.4

9.



Hasil penjumlahan gambar di atas adalah

- a. 7
- b. 8
- c. 9

10.

$$4 + 1 = \dots$$

Hasil penjumlahan di atas adalah

- a. 4
- b. 5
- c. 6