



## GUÍA DE EJERCICIOS

### UNIDAD 4 – REDONDEO

NOMBRE: \_\_\_\_\_ FECHA: \_\_\_\_\_

Objetivo: Usar la recta numérica y la tabla de valor posicional para redondear números a la decena y a la centena más cercana.

1. ¿Entre qué decenas se encuentra cada número? Completa

	41	
--	----	--

	8	
--	---	--

	57	
--	----	--

	94	
--	----	--

2. ¿Entre qué centenas se encuentra cada número? Completa

	781	
--	-----	--

	27	
--	----	--

	304	
--	-----	--

	992	
--	-----	--

3. Marta tiene que pagar un dulce que cuesta \$365, pero solo tiene monedas de \$100

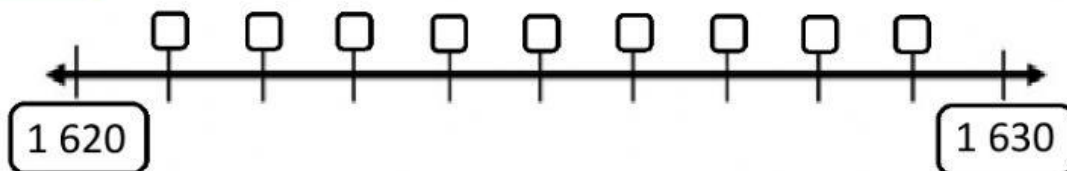


¿A qué **centena** corresponde aproximar 365?

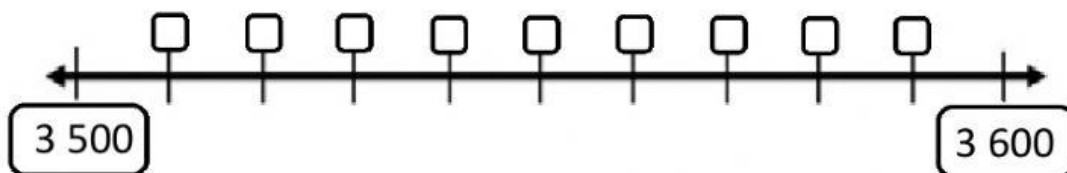
- a) 300
- b) 400
- c) 350

4. Ubica los siguientes números en la recta numérica, marcando el recuadro ☐ que corresponde:

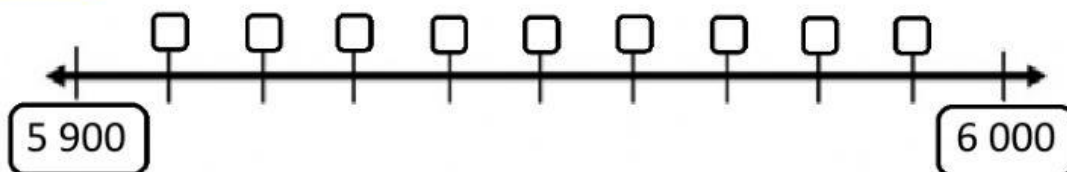
**a) 1 628**



**b) 3 540**



**c) 5 990**



5. Redondea a la CENTENA más cercana

a) 7 320




b) 3 190




c) 9 504




d) 1 137

