

LEMBAR KERJA PESERTA DIDIK
MATEMATIKA- RABU, 18-8-2021

NAMA :

KELAS / NOMOR :


I. Pilihlah jawaban yang paling benar!



A. lebih panjang

B. lebih pendek

C. Sama panjang




Kayu pemukul yang paling pendek adalah

A. A

B. B

C. C




Pernyataan yang benar sesuai gambar di atas adalah

A. Kayu Irham lebih pendek daripada kayu Doni.

B. Kayu Doni lebih panjang daripada kayu Boni.

C. Kayu Boni paling panjang

4.



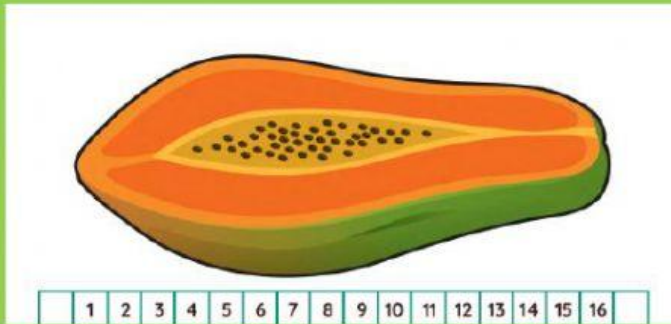
Pita yang paling panjang adalah pita milik

A. Sari

B. Ummu

C. Mini

5.



Panjang pepaya ... satuan.

A. 14

B. 15

C. 16

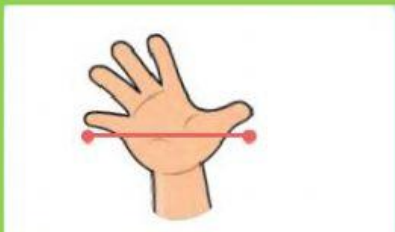
II. Pasangkan dengan menarik garis!

6.



A. jengkal

7.




B. hasta

8.



C. jengkal

9.



D. senang, sedih

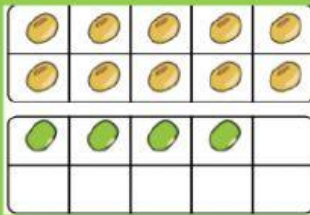
10.



E. sedih, marah

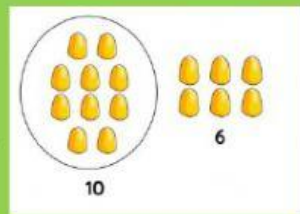
III. Pasangkan dengan cara menggeser !

11.



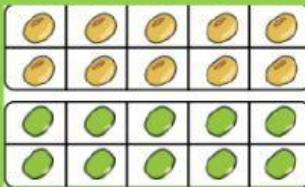
A. 12

12.



B. 14

13.



C. 15

14.



D. 16

15.



E. 20