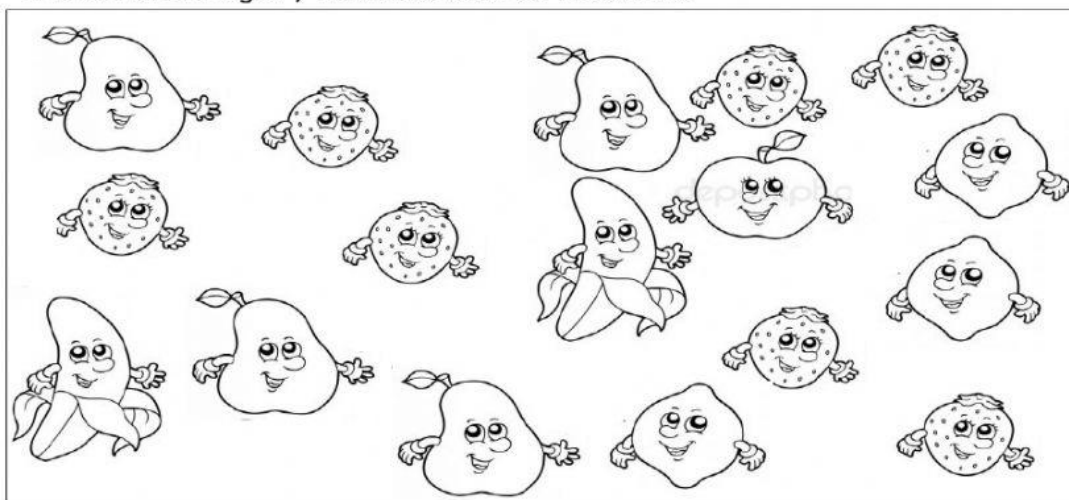


ESCUELA NORMAL SUPERIOR DE PIEDECUESTA  
TALLER DE MATEMATICA

Nombre: \_\_\_\_\_ 25/08/2021

1. Observa la imagen y realiza la tabla de frecuencia.



Fruta	Cantidad
Pera	
limón	
banano	
fresa	
manzana	

2. De acuerdo con la imagen se puede decir que:

- a. hay más limones que fresas.
- b. Hay más manzanas que bananos.
- c. Hay menos fresas que bananos
- d. Hay menos bananos que peras.

3. ¿Cuántos manzanas más debe haber en la imagen para que haya la misma cantidad de manzanas y bananos?

- a. 4
- b. 3
- c. 2
- d. 1

4 . Realizo las sumas.

$$\begin{array}{r} 17 \\ + 18 \\ \hline \end{array}$$

$$\begin{array}{r} 23 \\ + 19 \\ \hline \end{array}$$

$$\begin{array}{r} 27 \\ + 16 \\ \hline \end{array}$$

$$\begin{array}{r} 15 \\ + 28 \\ \hline \end{array}$$

$$\begin{array}{r} 28 \\ + 16 \\ \hline \end{array}$$

5. Organiza la siguiente serie de números de mayor a menor.





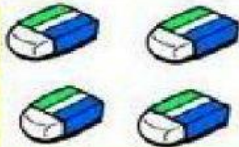





\* 23 17 29 7 36 2 30

\* \_\_\_\_\_

6. Escribe el número que escuchas.

# 7. Resuelve las restas.



	-		=	
	-		=	
	-		=	
	-		=	
	-		=	