

**BAHAGIAN A**

[ 50markah ]

*Jawab semua soalan**Masa yang dicadangkan untuk bahagian ini : 60 minit.***1** Nyatakan **dua** medium komunikasi lisan.

(i) .....

(ii) .....

[ 2 markah ]

**2**

Ayu seorang pelajar yang berfikiran positif. Beliau dapat menilai dan memberikan pendapat tentang kebaikan dan kekurangannya serta dapat menerima maklum balas daripada orang lain.

Berdasarkan pernyataan di atas,

(i) Berikan maksud peningkatan sendiri.

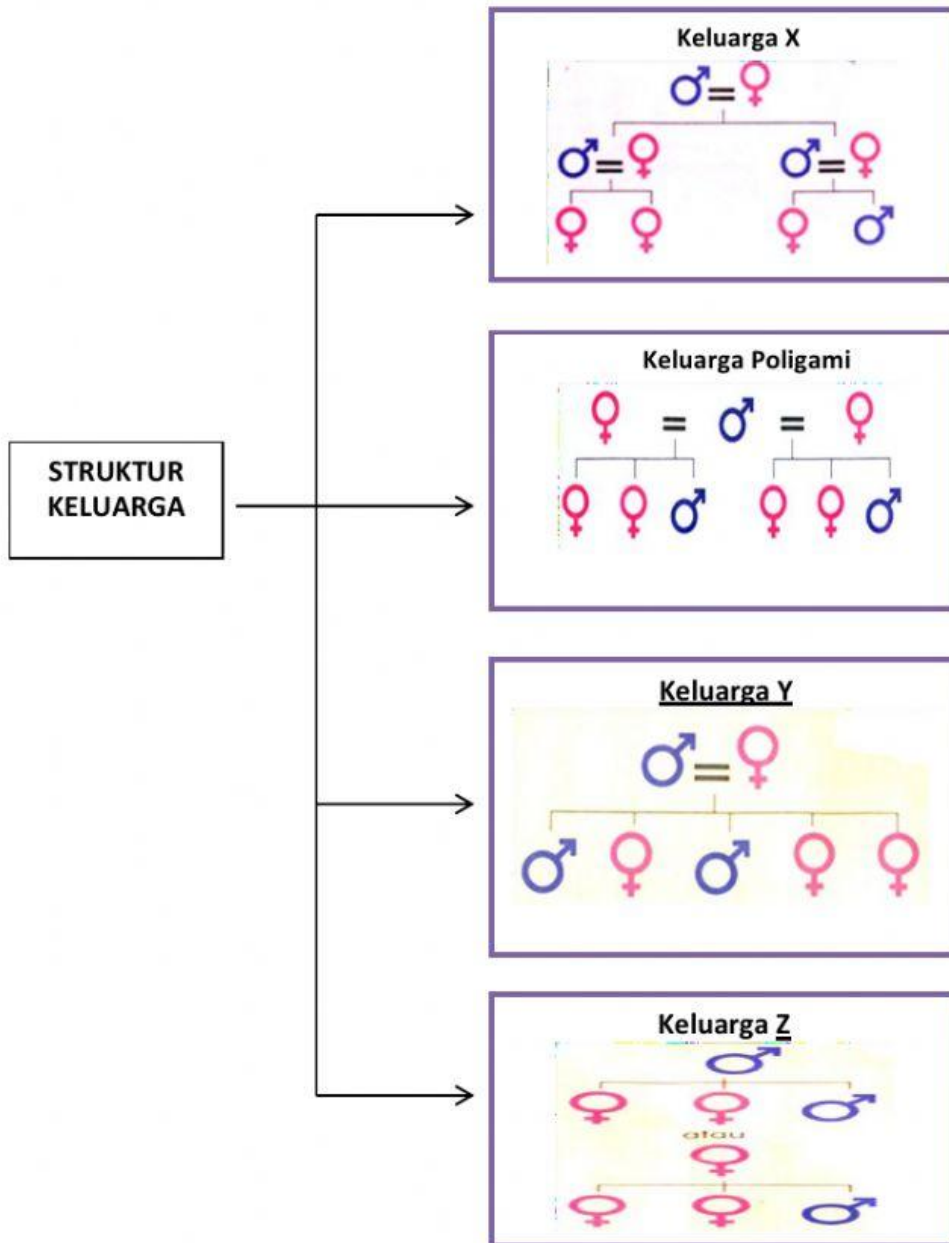
.....  
 .....

(ii) Nyatakan **satu** kepentingan peningkatan sendiri.

.....

[ 2 markah ]

3 Rajah 1 menunjukkan struktur keluarga.



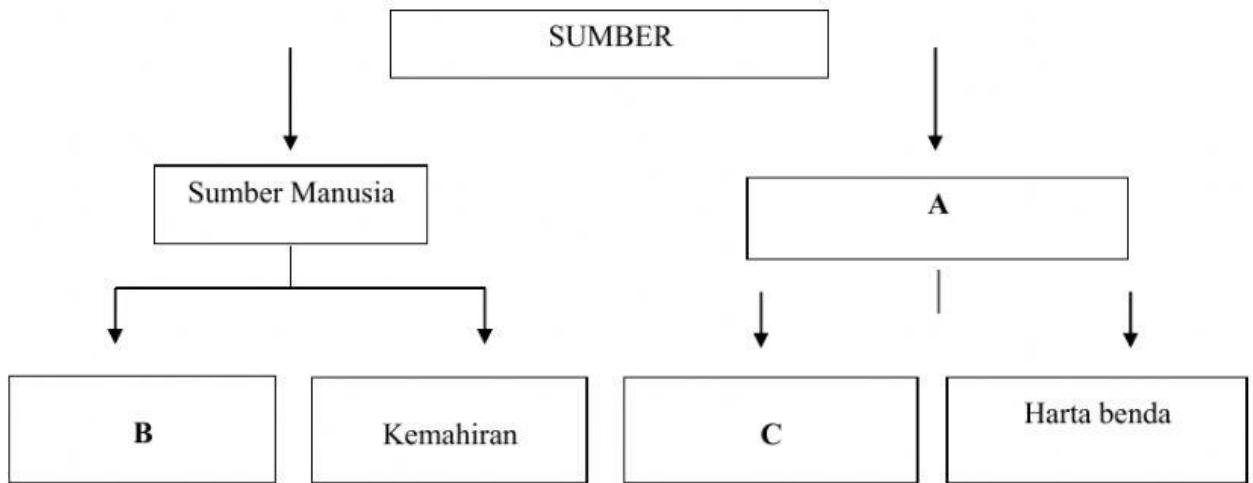
Rajah 1

Nyatakan struktur keluarga X, Y dan Z.

- X .....
- Y .....
- Z .....

[3 markah]

4 Rajah 2 menunjukkan peta pokok bagi kategori dan jenis sumber dalam keluarga.

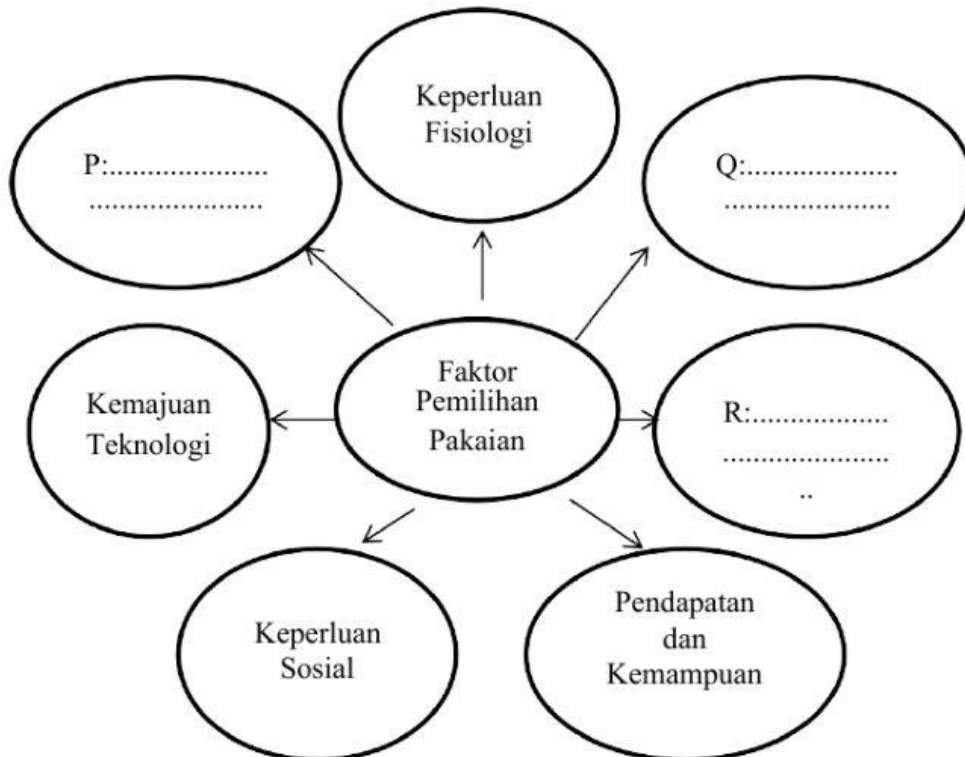


Lengkapkan rajah tersebut

- A: .....
- B: .....
- C: .....

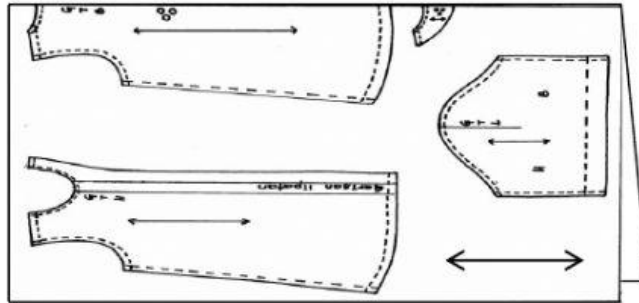
[3 markah ]

5 Rajah 3 di bawah menunjukkan peta buih faktor pemilihan pakaian. Lengkapkan peta tersebut.



[3 markah ]

- 6 Arfa telah diberi tugas untuk menghasilkan sehelai blaus. Rajah 4 di bawah merupakan susunan pola yang telah dihasilkan oleh Arfa di atas fabrik.



Rajah 4

Nyatakan **dua** peraturan menyusun atur pola yang perlu dipatuhi oleh Arfa.

- (i) .....
- (ii) .....

[ 2 Markah ]

- 7 Rajah 5 berikut menunjukkan lakaran blaus.

Lengkapkan urutan proses menjahit bagi bahagian yang bertanda X pada ruang yang disediakan.



Rajah 5

(i) Jahit jelujur di atas bahagian lipatan
↓
(ii)
↓
(iii)
↓
(iv)

[ 3 markah ]

- 8 Rajah 6 di bawah menunjukkan sumber utama sejenis nutrien.



Rajah 6

- (a) Apakah nutrien itu?

.....

- (b) Huraikan kesan berlebihan dan kekurangan pengambilan nutrien tersebut ke atas tubuh badan.

KESAN BERLEBIHAN	
KESAN KEKURANGAN	

[3 markah ]

