

Matemáticas

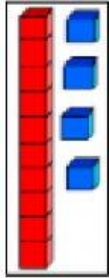
EJERCICIO EN CLASE.

Fecha: Lunes 16 de Agosto 2021

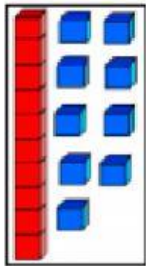


Unidad Educativa Bilingüe
Brisas del Río

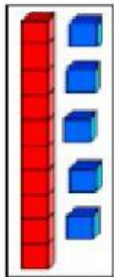
Unir con líneas cada representación gráfica de base diez con su respectivo número.



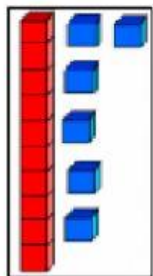
16




14



11



19



15