



Lembar Kerja  
Tematik Terpadu Kurikulum 2013  
Kelas V/ Semester 1



# LKPD

## Lembar Kerja Peserta Didik Tema 2 Subtema 1 Pembelajaran 2

**CARA TUBUH  
MENGOLAH UDARA BERSIH**

**Mokhsin Al Amin, S.Pd.**

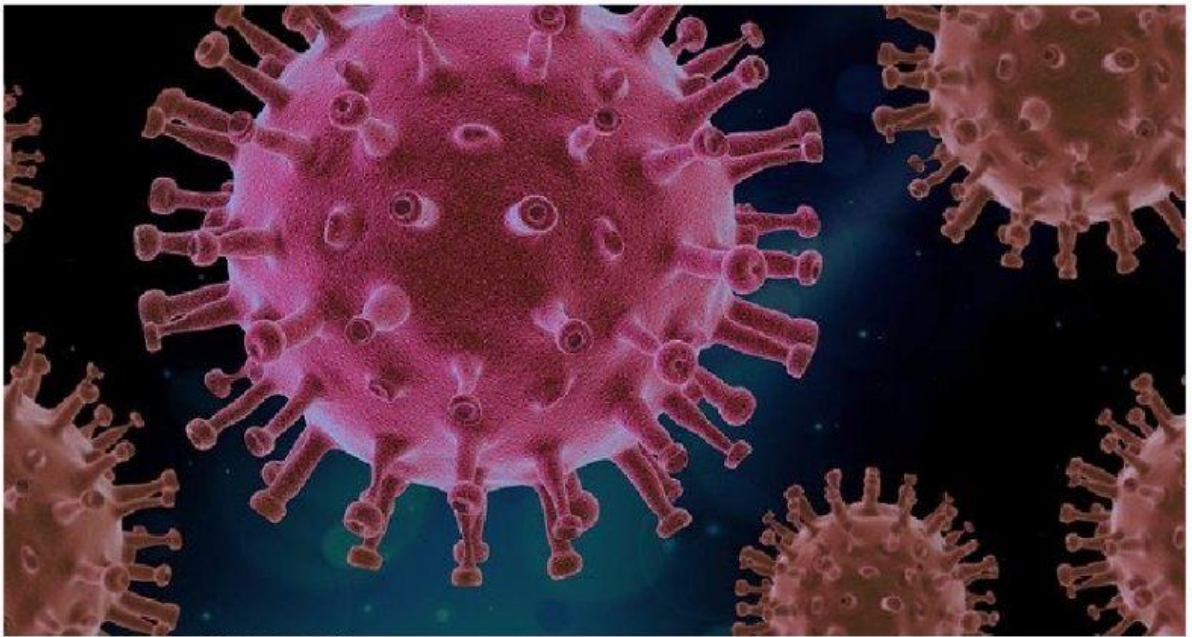
Mahasiswa PPG Daljab 2  
UPGRIS 2021





# LKPD 1

**Ayo berfikir kritis !!**



Gambar Ilustrasi | UNSA Solo

**Tahukah Kalian ...  
Gambar apakah itu ?**

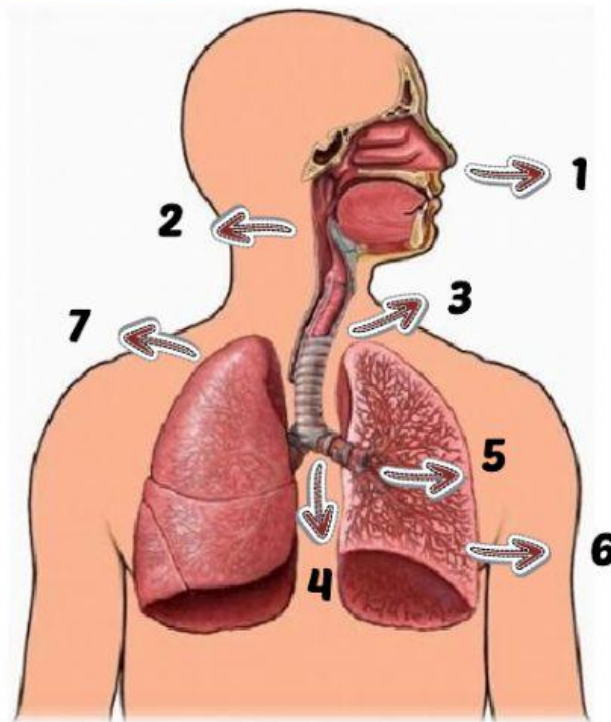
**Termasuk jenis penyakit/bakteri atau virus ?**

**Apakah ada hubungannya dengan fenomena/kenyataan yang ada di masyarakat sekarang? Coba jelaskan pendapatmu !**

**Apa yang diserang oleh gambar tersebut ?**

**Bagaimana cara mencegahnya ?**

**Perhatikan gambar berikut !**




**Ayo lengkapi titik-titik di bawah ini dengan nama organ !**

1. ...
2. ...
3. ...
4. ...
5. ...
6. ...
7. ...

**Coba jelaskan, bagaimana proses pernapasan manusia?**

# LKPD 2

## Ayo Menulis



Kamu telah membaca bacaan "Sistem Pernapasan pada Manusia" dari buku (bahan ajar).

1. Dari bacaan tersebut buatlah pertanyaan menggunakan kata tanya: apa, di mana, kapan, mengapa, dan bagaimana. Tuliskan pertanyaan sebanyak-banyaknya.
2. Dari pertanyaan tersebut, tuliskan jawabannya.
3. Tuliskan pertanyaan dan jawabanmu dalam bentuk tabel.

Kata Tanya	Pertanyaan	Jawaban
Apa	1. Apa saja organ pernapasan pada manusia?	1. Organ pernapasan pada manusia adalah hidung, faring, laring, trakea, bronkus, bronkiolus, dan alveolus
	2.	2.
	3.	3.
	4.	4.
	5.	5.
	6.	6.



Kata Tanya	Pertanyaan	Jawaban
<i>Kapan</i>	1.	1.
	2.	2.
	3.	3.
	4.	4.
	5.	5.
	6.	6.
<i>Di mana</i>	1.	1.
	2.	2.
	3.	3.
	4.	4.
	5.	5.
	6.	6.

Kata Tanya	Pertanyaan	Jawaban
<i>Bagaimana</i>	1.	1.
	2.	2.
	3.	3.
	4.	4.
	5.	5.
	6.	6.
<i>Mengapa</i>	1.	1.
	2.	2.
	3.	3.
	4.	4.
	5.	5.
	6.	6.

# LKPD 3

Di masa pandemi seperti sekarang ini di tempat-tempat umum diberlakukan peraturan kebiasaan baru diantaranya kapasitas pengunjung 25 % atau seperempat dari kapasitas normal. Tahukah kalian, jika kapasitas suatu masjid 100 orang, berapakah daya tampung masjid tersebut yang diperbolehkan di saat pandemi?

Ayo Berdiskusi



$$\frac{1}{4} \times 100$$

**Berapa hasil perkalian bilangan di atas ?**

**Bagaimana cara kalian menyelesaikannya? Jelaskan!**







$$\frac{1}{2} \times \frac{2}{3}$$

Sekarang, berapa hasil perkalian bilangan di atas ?

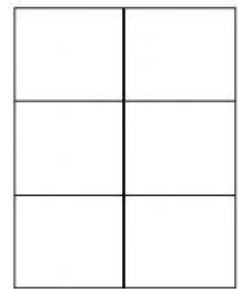
**Ayo berfikir !!**



$\frac{1}{2}$



$\frac{2}{3}$



$\frac{2}{3}$  dari  $\frac{1}{2}$

**Arsirlah/warnai bagan yang ada sesuai pecahan yang ditunjuk!**

**Himpitkan bagan pecahan 1/2 dengan pecahan 2/3!**

**Apa yang terjadi?**

**Tuliskan kesimpulanmu!**