


ULANGAN HARIAN 1 RUANG LINGKUP BIOLOGI

Nama :

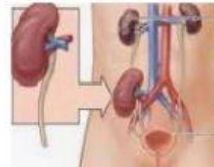
Kelas :

1. Perhatikan gambar dibawah ini!

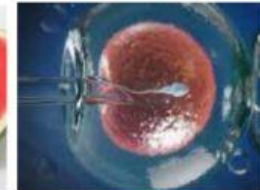
a. Bidang pertanian



b. Bidang kedokteran



c. Bidang industri makanan



Kelompokkan gambar diatas sesuai dengan manfaatnya dalam bidang pertanian atau kedokteran atau industri makanan

2. Jodohkan pernyataan dibawah ini dengan keterangan yang ada disebelahnya!

- | | | |
|---|--------------------------|------------------------------------|
| a. Ilmu yang mempelajari tentang sel | <input type="checkbox"/> | <input type="checkbox"/> ekologi |
| b. Ilmu yang mempelajari tentang hubungan timbal balik antar makhluk hidup dengan lingkungannya/ekosistem | <input type="checkbox"/> | <input type="checkbox"/> virologi |
| c. Ilmu yang mempelajari tentang virus | <input type="checkbox"/> | <input type="checkbox"/> organ |
| d. Tingkat kajian biologi yang mempelajari Struktur dan fungsi jantung | <input type="checkbox"/> | <input type="checkbox"/> hipotesis |
| e. Jawaban sementara terhadap permasalahan Yang akan diteliti | <input type="checkbox"/> | <input type="checkbox"/> sitologi |

3. Perhatikan pernyataan dibawah ini!

Pengaruh pupuk terhadap pertumbuhan kacang merah

Pindahkan jawaban yg ada pada kolom dan diletakan pada keterangan yang ada pada soal

a. Variabel bebas

Pertumbuhan kacang merah

b. Variabel terikat

Air, udara, cahaya matahari

c. Variabel kontrol

pupuk

4. Perhatikan langkah-langkah metode ilmiah dibawah ini!

Urutkan langkah-langkah metode ilmiah dibawah ini dengan cara memindahkan jawabannya ke nomor yang sudah disediakan

Merumuskan masalah	Mengomunikasikan hasil penelitian	Mengolah hasil percobaan	Melakukan eksperimen
Membuat kesimpulan	Mengumpulkan data/informasi	Menyusun hipotesis	

Urutan jawabannya

1 5

2 6

3 7

4

5. Urutkan tingkat organisasi kehidupan dari yang terbesar sampai yang terkecil

1. 6.

2. 7.

3. 8.

4. 9.

5. 10

Biosfer	Organ	Individu	Sistem organ
sel	bioma	Jaringan	
ekosistem	komunitas	populasi	

Penggunaan liveworkhseet ini hanya berlaku satu kali, jadi jika kalian mengulang tetap yang diambil nilai pertama karena ini ulangan