

1.- Encuentre el nombre correspondiente de las siguientes simbologías eléctricas y una con línea según corresponda.

A. Fue el primer personaje que experimento con el efecto de electricidad estática

B. Fue el inventor del pararrayos

C. Descubrió la inducción electromagnética

D. Experimento con la denominada electricidad animal

a) Benjamín Franklin





b) Tales de Mileto

c) Michael Faraday

d) Luigi Galvani

2.- Arrastra los personajes donde pertenecen.

Guerra de las corrientes.



Inducción electromagnética y electromagnetismo

