

# EL TEMPO





¿Recordáis el vídeo de la semana pasada donde nos explicaban qué era el pulso de la música y el tempo?

Te lo vuelvo a dejar por aquí para que lo recuerdes:



Ahora iivamos a ver si lo has entendido bien!!

**Une** cada animal con el tempo correspondiente. (Piensa a qué velocidad se mueve ese animal)

	●	●	ADAGIO
	●	●	LENTO
	●	●	ANDANTE
	●	●	ALLEGRO

Selecciona la respuesta correcta:

¿Cómo se llama el aparato con el que se mide el pulso de la música?

RELOJ

METRÓNOMO

ESTETOSCOPIO

¿Cuántos pulsos tiene esta frase musical?


8

16

4

26

¿Lo podríamos representar así un pulso por cada botón)



SÍ

NO

¿Cuántas veces se repite esa misma frase musical?

8

16

4

26