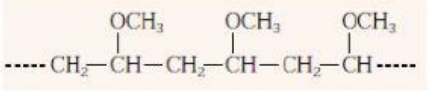
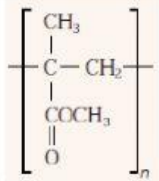
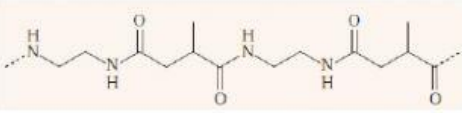
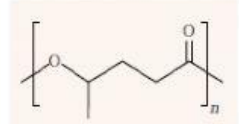


แบบฝึกหัด 13.1

2. เขียนโครงสร้างพอลิเมอร์ที่ได้จากมอนอเมอร์ต่อไปนี้ พร้อมทั้งระบุว่าปฏิกิริยาการเกิดพอลิเมอร์เป็นแบบใด

พอลิเมอร์	มอนอเมอร์
<p>2.1</p> 	<p>ปฏิกิริยาการเกิดพอลิเมอร์เป็นแบบ</p>
<p>2.2</p> 	<p>ปฏิกิริยาการเกิดพอลิเมอร์เป็นแบบ</p>
<p>2.3</p> 	<p>**มีหลากหลายคู่เลือกมาคู่เดียว</p> <p>ปฏิกิริยาการเกิดพอลิเมอร์เป็นแบบ</p>
<p>2.4</p> 	<p>ปฏิกิริยาการเกิดพอลิเมอร์เป็นแบบ</p>

