


Colégio: \_\_\_\_\_

Nome: \_\_\_\_\_


Turma : \_\_\_\_\_ Data: \_\_\_\_\_

Helena, Júlia, Bia e Larissa trabalham juntas e anotam em um caderno o horário do início e do fim de suas atividades. Digite os horários de Júlia, Bia e Larissa seguindo o modelo de Helena.

Helena



Início: 03:45 \_\_\_\_\_



Fim: 05:00 \_\_\_\_\_

Júlia



Início: \_\_\_\_\_



Fim: \_\_\_\_\_

Bia

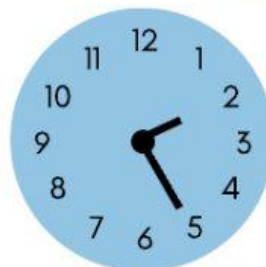


Início: \_\_\_\_\_



Fim: \_\_\_\_\_

Larissa



Início: \_\_\_\_\_



Fim: \_\_\_\_\_

Preencha as lacunas seguindo o exemplo:

CDU  
125

Uma centena, duas dezenas e cinco unidades  
Cento e vinte e cinco

CDU  
235

CDU  
352

CDU  
523