

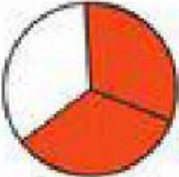

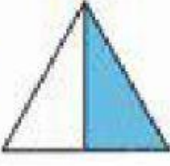







ESCUELA SECUNDARIA FEDERAL No.8
"LIC. JOSÉ TRINIDAD GUIDO"
MORELIA, MICHOACÁN
MATEMÁTICAS.

Escribe una fracción para cada grupo de las figuras siguientes.

 $\frac{2}{5}$	 <input type="text"/>	 <input type="text"/>	 <input type="text"/>	 <input type="text"/>
 <input type="text"/>	 <input type="text"/>	 <input type="text"/>	 <input type="text"/>	 <input type="text"/>



COMPLETA EL CUADRO. REALIZANDO LAS OPERACIONES PARA ENCONTRAR EL RESULTADO.

a) $5\frac{3}{4} = \frac{\boxed{}}{4}$	b) $2\frac{3}{8} = \frac{\boxed{}}{8}$
c) $6\frac{1}{9} = \frac{\boxed{}}{9}$	d) $12\frac{2}{3} = \frac{\boxed{}}{3}$
e) $20\frac{5}{6} = \frac{\boxed{}}{6}$	f) $\frac{60}{13} = \boxed{} \frac{8}{13}$
g) $\frac{225}{13} = \boxed{} \frac{4}{13}$	h) $\frac{360}{14} = 25 \frac{\boxed{}}{14}$
i) $\frac{746}{23} = 32 \frac{\boxed{}}{23}$	

¡BRILLANTE!



MRFCh