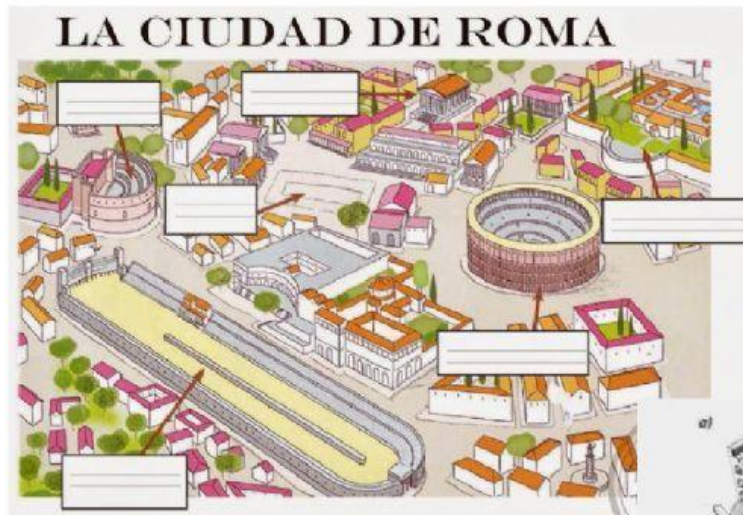


1. RELLENA LOS huecos con los nombres de los principales edificios romanos



2. ARRASTRA CADA NOMBRE Y FUNCIÓN CON EL EDIFICIO

QUE CORRESPONDA

ARCO	BAÑOS PÚBLICOS
TERMAS	CARRERAS
ANFITEATRO	LUCHAS
CIRCO	TRIUNFOS

Edificio:

Función:

Edificio:


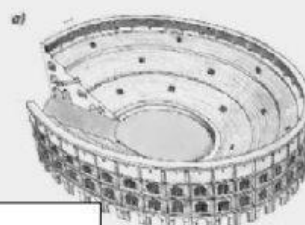
Función:

Edificio:

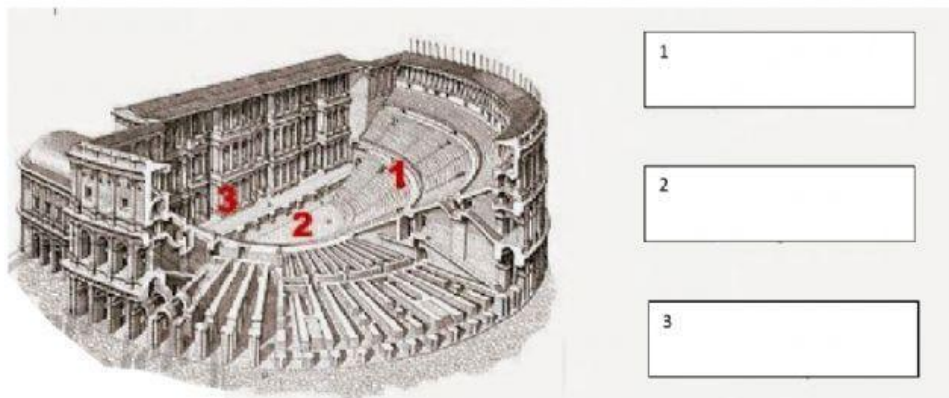
Función:

Edificio:

Función:



3. Escribe a qué partes del teatro se corresponde cada número y completa las frases que aparecen al lado.



- Los asientos más cercanos al escenario estaban reservados para _____
- Los asientos más altos y alejados de la escena _____ eran para _____
- A diferencia de los romanos, los griegos situaban siempre sus teatros en _____

4. Une con flechas los dioses romanos y su función.

Júpiter	Diosa de la sabiduría, de las artes y de las ciencias.
Juno	Dios del agua y del mar.
Minerva	Dios del cielo y de los fenómenos atmosféricos.
Diana	Dios de la guerra.
Neptuno	Diosa del amor y de la belleza.
Marte	Diosa de la caza.
Venus	Diosa protectora de las mujeres y del matrimonio.

5. Averigua y escribe a qué dios o diosa griego equivalían los siguientes dioses romanos:

JUPITER	
JUNO	
MINERVA	
DIANA	
MARTE	