


Lección de Estudios sociales

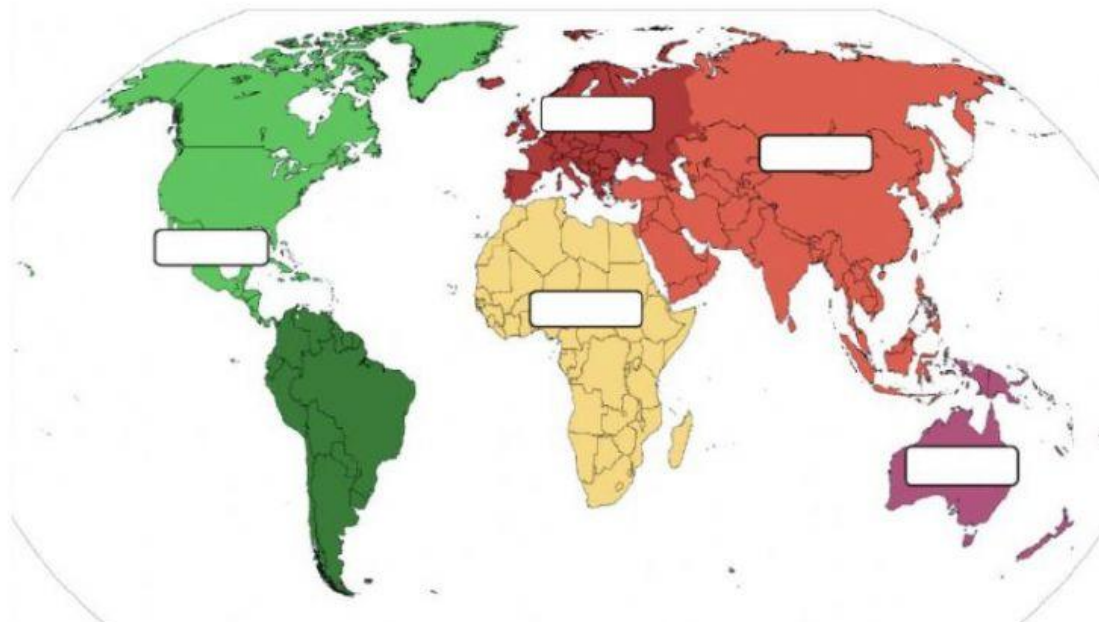
Nombre: _____

Fecha: jueves, 12 de agosto del 2021

1	En el siguiente mapa coloca los nombres en la división de América	Valor 2pts.								
<div style="display: flex; justify-content: space-around; margin-bottom: 10px;"> <div style="border: 1px solid black; padding: 5px; width: 30%;">América del Norte</div> <div style="border: 1px solid black; padding: 5px; width: 30%;">América Central</div> <div style="border: 1px solid black; padding: 5px; width: 30%;">América del Sur</div> </div> <div style="text-align: center;">  </div>										
2	Seleccione verdadero o falso	Valor 2pts.								
<ul style="list-style-type: none"> • Ecuador se encuentra en el continente americano en la subdivisión América del norte. • Los países que rodean al Ecuador son Perú y Colombia. • En América del sur el país más grande es Brasil. • En América los idiomas más hablados son: español, inglés, quichua, portugués. 		<table border="1"> <thead> <tr> <th>V</th> <th>F</th> </tr> </thead> <tbody> <tr><td></td><td></td></tr> <tr><td></td><td></td></tr> <tr><td></td><td></td></tr> </tbody> </table>	V	F						
V	F									

3 Arrastra el nombre del continente donde corresponda

Valor 2pts.



Oceanía

Asia

Europa





América

África

4 Escribe los elementos del mapa

Valor 2pts



5	Relacione los mapas con su respectivo nombre	Valor 2 pts.
	Mapa vial	
	Mapa político	
	Mapa producción	
	Mapa físico	

Lcda. Maryorie Villigua