


LEMBAR KERJA PESERTA DIDIK (LKPD)
KELAS 3 TEMA 1 SUB TEMA 4
“PERTUMBUHAN DAN PERKEMBANGAN MAKHLUK HIDUP”
MOHAMMAD SAMIR, S.Pd

NAMA :

HARI/TAGL :

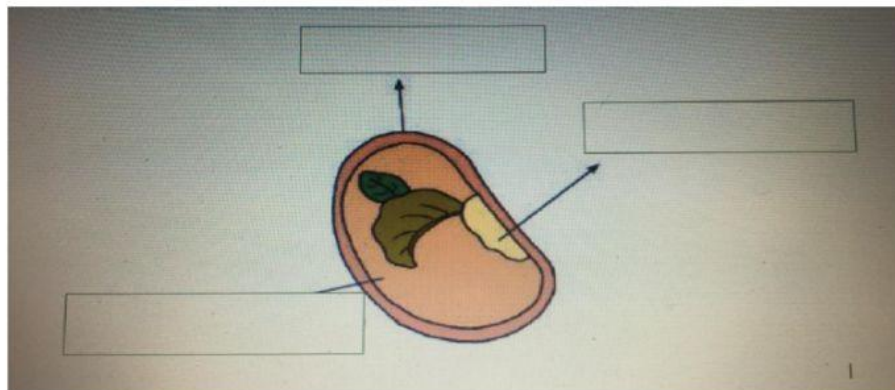
MATERI : Pertumbuhan dan Perkebangbiakan Tumbuhan Biji

Simak Video di bawah ini dengan baik!



Jawab pertanyaan-pertanyaan di bawah ini!

1. Pada wacana dalam video tersebut, sebagian besar tumbuhan berkembang biak dengan
2. Tumbuhan yang berkembang biak dengan biji diantaranya adalah
3. Diantara tanaman yang berkembang biak dengan biji yang merupakan kebutuhan pokok kita sehari-hari adalah
4. Pasangkan sesuai dengan namanya pada gambar tersebut


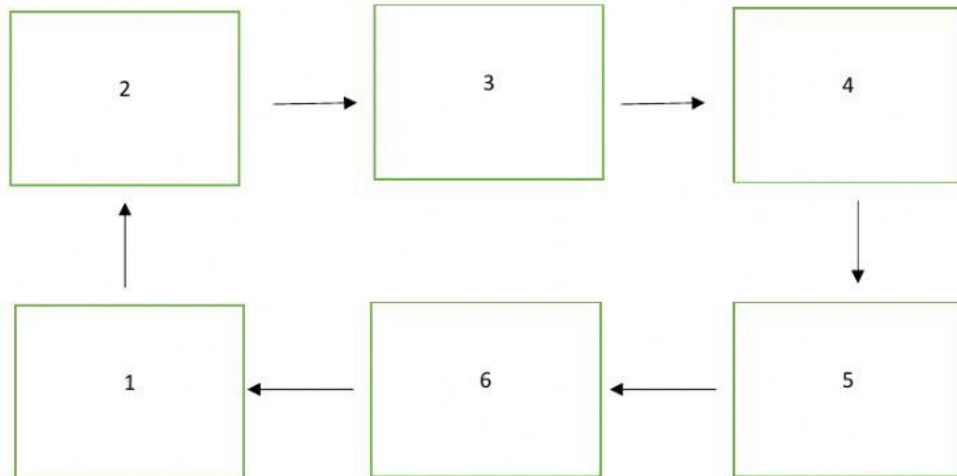


Kotiledon
Sumber Makanan Untuk
Calon Tumbuhan Baru

Selimut Biji
Melindungi Biji

Embrio
Calon Tumbuhan Baru

5. Pasangkan Daur Hidup Tanaman Kacang Hijau di bawah ini sesuai dengan nomor urut yang terdapat pada masing-masing kotak!



6. Sila keempat Pancasila dilambangkan oleh
7. Musyawarah adalah kegiatan membicarakan sesuatu masalah secara
8. Musyawarah dilaksanakan untuk menyatukan pendapat dan menyelesaikan
9. Memilih ketua kelas merupakan salah satu contoh dari di sekolah.
10. Setiap individu dalam sebuah keluarga memiliki kegemaran yang
11. Dalam musyawarah, kita harus menghargai dan menghormati orang lain walaupun berbeda dengan keinginan kita.
12. Ayah ingin berwisata ke Bandung, Ibu ingin wisata ke Bali, sementara kakak dan adik ingin berwisata ke Lombok. Mereka bermusyawarah menentukan tempat wisata yang akan mereka kunjungi. Mereka bermusyawarah dan memutuskan untuk berwisata ke Lombok. Walaupun tidak sesuai dengan keinginannya, ayah harus menerima hasil musyawarah dengan