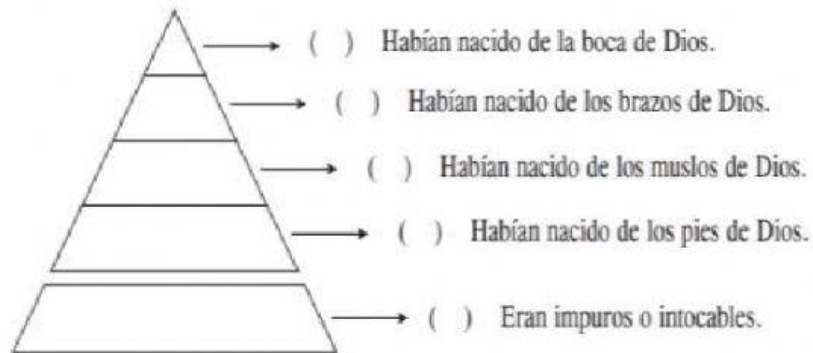


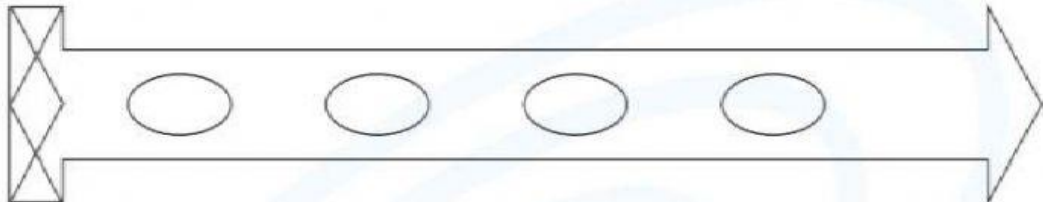


1. Relacione las castas.



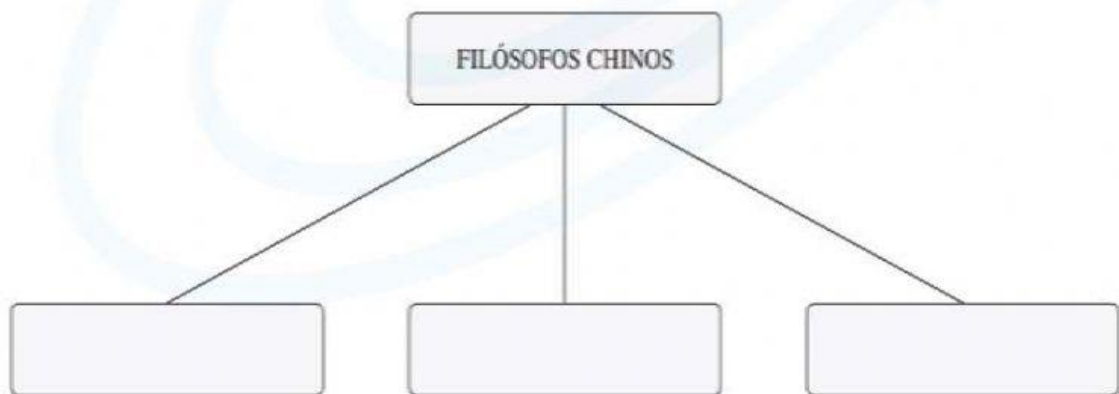
- a. Parias      b. Brahmas      c. Sudras      d. Chatrias      e. Vaisyas

2. Ordene cronológicamente.



- a. Dinastía Qin                      b. Dinastía Xia
- c. Dinastía Han del Este          d. Dinastía Zhou del Oeste

3. Complete el esquema.



4. Relacione

- |                   |                  |
|-------------------|------------------|
| a. Yang Tse-Kiang | ( ) Río Azul     |
| b. Huang-Ho       | ( ) Río Amarillo |
| c. Ganges         | ( ) Religión     |
| d. Hinduismo      | ( ) India        |

5. La Gran Muralla china fue escogida como una de las nuevas siete maravillas del mundo en el año 2007. ¿Cuál de los siguientes enunciados corresponde a la principal función de la Gran Muralla?

- A) Fue construida con fines solo estilísticos.
- B) Su función era complacer al emperador con una hermosa vista de su reino.
- C) Tuvo un papel defensivo contra invasiones de tribus mongolas.
- D) Abarca solo una pequeña parte del territorio chino.
- E) Servía para evitar que los enemigos del emperador pudieran escapar.

