








# CÁLCULO MENTAL

Nombre y apellido: \_\_\_\_\_

❖ Resuelve las sumas y restas, luego une la respuesta correcta:

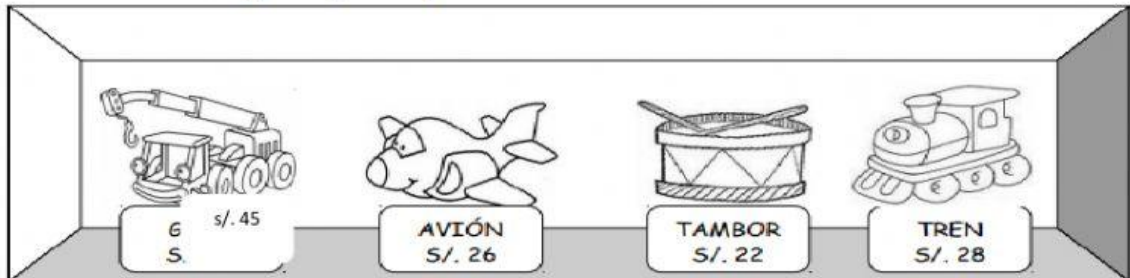
						
45 - 10	80 + 50	76 - 12	88 + 11	95 - 5	29 + 8	150 - 50

99	37	90	35	130	50	64
						

❖ *Descomponemos las cantidades para calcular con rapidez el costo de los juguetes*

Roberto e Iván van de compras con su mamá y quieren comprar juguetes:

**Observa la imagen y responde:**



Si compran un avión y un tren:

$$26 = \square + \square$$

$$32 = \square + \square$$

---


$$\begin{array}{r} \square + \square \\ \hline \square \end{array}$$

Pagarian en total: s/.  soles.





Si compran una grua y un tambor:

$$45 = \square + \square$$

$$22 = \square + \square$$

---

$$\begin{array}{ccc} \square & + & \square \\ & \searrow & \swarrow \\ & \square & \end{array}$$

Pagarian en total: s/.  soles.



Si compran un tren y una grua:

$$28 = \square + \square$$

$$45 = \square + \square$$

---

$$\begin{array}{ccc} \square & + & \square \\ & \searrow & \swarrow \\ & \square & \end{array}$$

Pagarian en total: s/.  soles.

