

## FICHA 1

¿CUANTO DINERO TENGO? CADA MONEDA TIENE EL VALOR DE 1

----- + ----- =

----- + ----- =





----- + ----- =

----- + ----- =

----- + ----- =

----- + ----- =


TENGO MÁS DINERO EN MONEDAS QUE EN BILLETES?

ESCRIBE EN EL RECUADRO NARANJA Y LA CANTIDAD DE DINERO EN MONEDAS SABRIENDO QUE CADA UNA TIENE UN VALOR DE \$1 y EL VALOR DEL BILLETE



TENGO MÁS DINERO EN MONEDAS QUE EN BILLETES?

---



TENGO MÁS DINERO EN MONEDAS QUE EN BILLETES?