

6. Di antara berikut yang manakah merupakan not **Minim** ?



7. Pilih pasangan yang betul .



8. Antara berikut not yang manakah mempunyai nilai yang paling besar ?

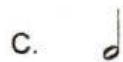
A. Krocet


B. Minim

C. Semibrif


D. Minim bertitik

9. Not yang bernilai 3 ialah



10.  ialah tanda rehat untuk not

- A. Semibrif
- B. Krocet
- C. Minim
- D. Minim Bertitik

11. Apakah nama tanda  ?

- A. Flet
- B. Klef Trebel
- C. Klef Bass
- D. Syap

Soalan 12 & 13 adalah berpandukan turutan solfa berikut :




12. Solfa yang berada di **X** ialah

- A. RE
- B. MI
- C. DO
- D. LA

13. Solfa yang berada di **Y** ialah

- A. DO
- B. MI
- C. SO
- D. RE

14.




Rajah 1

Rajah 1 menunjukkan isyarat tangan solfa untuk

- | | |
|-------|-------|
| A. Do | B. Re |
| C. Mi | D. Fa |

15.



Rajah 2

Nyatakan isyarat tangan solfa bagi rajah 2.

- | | |
|-------|-------|
| A. Do | B. Re |
| C. Mi | D. Fa |

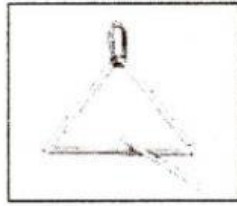
Soalan 16 hingga 20 sila rujuk gambarajah di bawah.



16. Tanda $\frac{2}{4}$ menunjukkan

- | | |
|------------------------|---------------------------|
| A. Meter $\frac{2}{4}$ | B. Pecahan $\frac{2}{4}$ |
| C. Nilai $\frac{2}{4}$ | D. Not $\frac{2}{4}$
5 |

Soalan 21 hingga 23 adalah berpandukan rajah 3 di bawah.



Rajah 3

21. Apakah nama alat muzik di atas ?

- | | |
|-------------|--------------|
| A. Tamborin | B. Kastanet |
| C. Loceng | D. Kerincing |

22. Alat muzik tersebut dimainkan dengan cara

- | | |
|------------|----------|
| A. Ketuk | B. Tepuk |
| C. Goncang | D. Petik |

23. Alat Muzik di atas diperbuat daripada

- | | |
|----------|----------|
| A. Kayu | B. Kulit |
| C. Getah | D. Besi |

24. Pilih pasangan yang betul.

- | | | |
|--------------|------|---------|
| A. Kastanet | ---- | goncang |
| B. Kerincing | ---- | tebuk |
| C. Gitar | ---- | petik |
| D. Kompang | ---- | gesek |

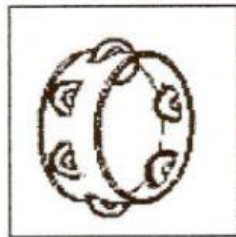
25. Di antara berikut yang manakah merupakan alat muzik yang dimainkan secara tiupan ?

- A. Piano
- B. Rekoder
- C. Gitar
- D. Kompang

26. Kompang biasanya dimainkan semasa

- A. Majlis perkahwinan
- B. Kematian
- C. Persembahan koir
- D. Nyanyian lagu rasmi

Soalan 27 & 28 adalah berpandukan rajah 4 di bawah.



Rajah 4

27. Namakan alat muzik di atas.

- A. Tamborin
- B. Kerincing
- C. Kastanet
- D. Loceng

28. Alat muzik di atas biasanya dimainkan dengan cara

- A. Ketuk atau tiup
- B. Tiup atau petik
- C. Goncang atau tepuk
- D. Gesek atau goncang

29. Berikut merupakan alat muzik tradisional **KEQUALI**

- A. Rebana
- B. Kompang
- C. Rekoder
- D. Gong

30. Di antara berikut yang manakah merupakan alat muzik **bertali** ?

- A. Piano
- B. Gitar
- C. Trumpet
- D. Marakas

31. Namakan alat muzik yang ditunjukkan dalam rajah 5



Rajah 5

- A. Gitar
- B. Kibod
- C. Piano
- D. Dram

32. Alat muzik di atas di mainkan dengan cara

- A. Tiupan
- B. Gesekan
- C. Pukulan
- D. Tepukan

