






EVALUACIÓN CIENCIAS NATURALES
UNIDAD: CARACTERES SEXUALES Y SISTEMA REPRODUCTOR FEMENINO
5° año básico: Semana del 16 de agosto

Nombre	
Curso	

1.- Responde verdadero o falso, según corresponda, justifica las respuestas falsas.

	La adolescencia es la mejor etapa para ser padres.
Justificación:	
	La infancia es la primera etapa del desarrollo humano.
Justificación:	
	La pubertad es la primera parte de la etapa de la vejez.
Justificación:	
	La adultez comienza a los 65 años aprox.
Justificación:	
	En la vejez disminuye la capacidad física.
Justificación:	
	En la infancia la relación afectiva es mayormente con la madre.
Justificación:	

2.- Indica los nombres de las etapas del desarrollo.



3.- Arrastra la característica secundaria que corresponde en cada lugar que se indica.



1.- Aparición de acné

2.- Maduración del sistema reproductor.
Primera eyaculación.

3.- Crecimiento de vello axilar y púbico.

4.- Desarrollo de glándulas mamarias

5.- Aumento de estatura

6.- Crecimiento de vello facial y cambio de voz.

7.- Ensanchamiento de hombros

8.- Desarrollo de musculatura.

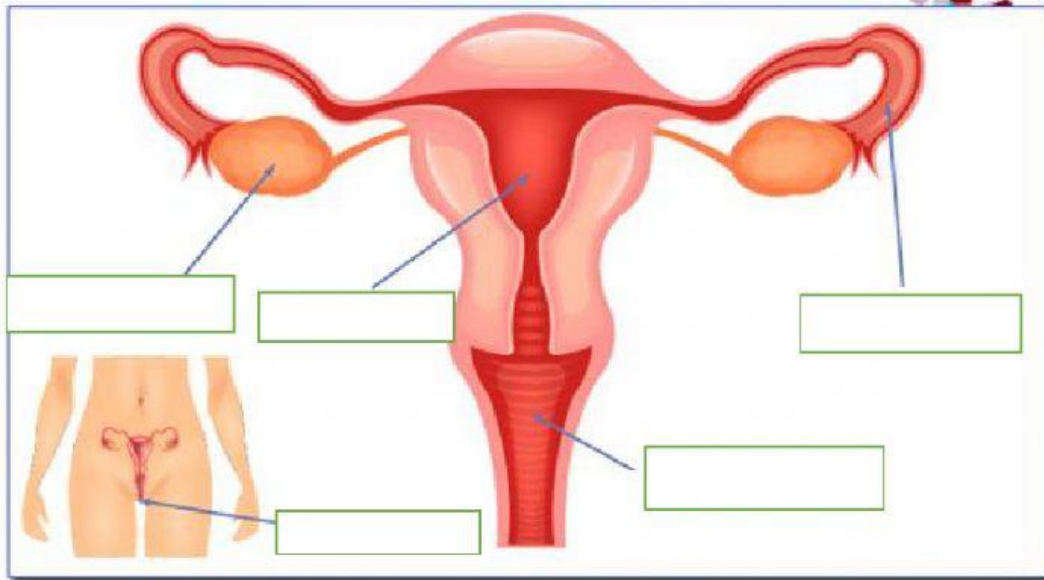
9.- Maduración del sistema reproductor, primera menstruación

10.- Ensanchamiento de caderas y muslos



4.- Indica el nombre de cada estructura del sistema reproductor femenino

PARTES DEL APARATO REPRODUCTOR FEMENINO



5.- Relaciona cada estructura del sistema reproductor femenino con su función.

ÚTERO	En ellos se desarrollan los ovocitos.
OVARIOS	Conecta los ovarios con el útero, ahí se produce la fecundación.
VULVA	Es el canal de parto y recibe al pene durante la relación sexual.
VAGINA	Corresponde a los órganos externos del sistema reproductor femenino
OVIDUCTOS	En él, se desarrolla el bebe durante el embarazo.