



الفصل الدراسي الأول: 2021 / 2022
ورقة عمل: الرياضيات

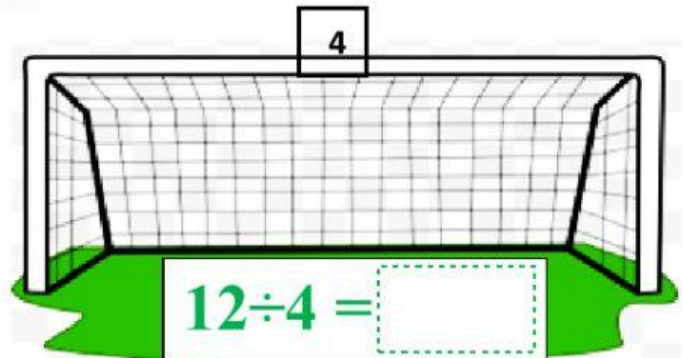
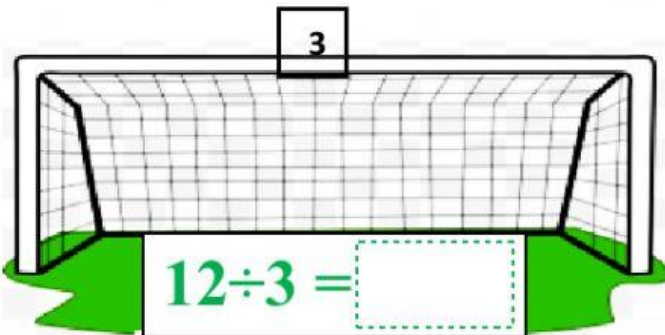
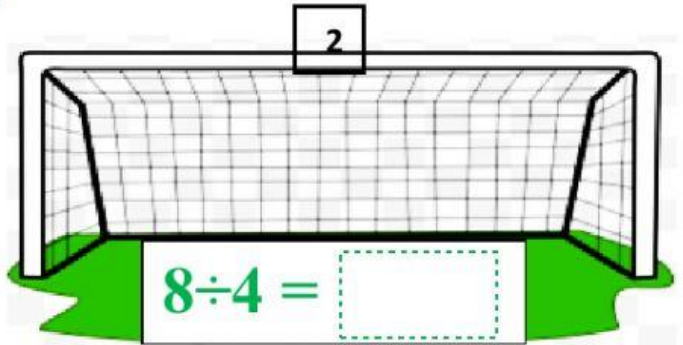
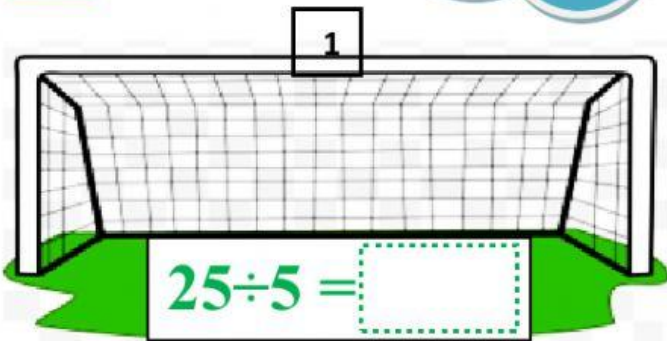


اسم الطالب : الصف الثاني شعبة () التاريخ:

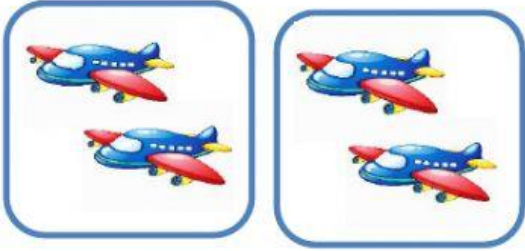
النتائج ايجاد ناتج القسمة بشكل صحيح



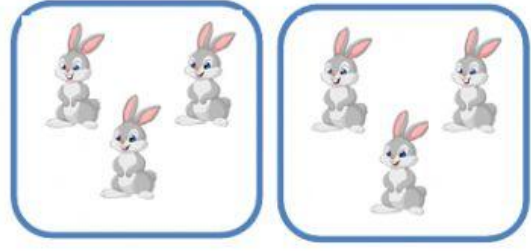
هيا بنا يا صغاري
لنحقق الأهداف في
المرمى بايجاد ناتج
القسمة الصحيح



أكتب جملة القسمة المناسبة للأشكال التالية:



$$\square \div \square = \square$$



$$\square \div \square = \square$$

صل بين جملي الضرب والقسمة المترابطين:

$$9 \div 3 = 3$$

$$5 \times 2 = 10$$

$$10 \div 2 = 5$$

$$3 \times 3 = 9$$

أيها العبقري الصغير قم بحل المسألة الآتية:

وزعت هند 16 بالون على صديقاتها بحيث أخذت كل صديقة منهم 4 بالونات . فما عدد صديقاتها؟

$$\square \div \square = \square$$

صغيري المبدع اختر الإجابة الصحيحة:

$$20 \div 4 =$$

3

5

2

$$6 \div 3 =$$

2

3

5