



A PROFESSORA DO 2º ANO B FEZ UMA PESQUISA PARA SABER QUAL O LANCHE PREFERIDO DA TURMA. VEJA O GRÁFICO:



1) PREENCHA A TABELA COM A QUANTIDADE DE CRIANÇAS QUE ESCOLHERAM CADA LANCHE:

LANCHES	QUANTIDADE DE VOTOS
	
	
	
	

RESPONDA:

A) QUAL O LANCHE MAIS ESCOLHIDO? _____

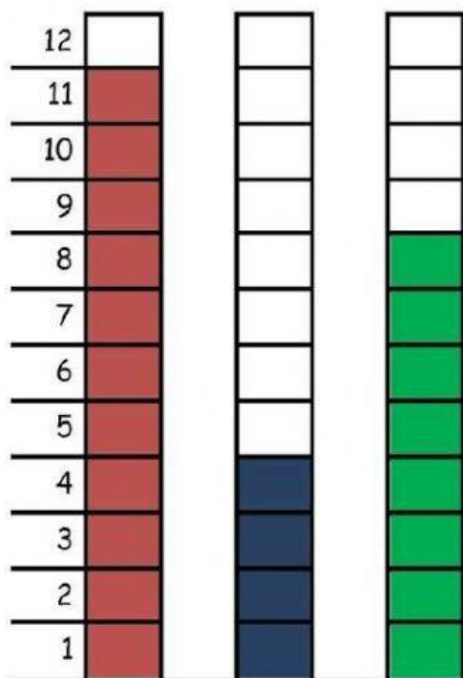
B) QUANTAS CRIANÇAS VOTARAM NO LANCHE MAIS ESCOLHIDO? _____

C) SE VOCÊ ESTIVESSE NESTA TURMA QUAL LANCHE ESCOLHERIA?

A PARTIDA DE FUTEBOL

PAPAI CEBOLA, O CEBOLINHA E O VOVÔ JOGARAM UMA PARTIDA DE FUTEBOL.

VEJA A QUANTIDADE DE GOLS QUE CADA UM MARCOU:



- 1-QUEM MARCOU MAIS GOLS ? _____
- 2-QUEM MARCOU MENOS GOLS ? _____
- 3-QUAL FOI O TOTAL DE GOLS DESSA PARTIDA ? _____
- 4-REGISTRE NA TABELA A QUANTIDADE DE GOLS DE CADA UM, REPRESENTANDO COM NÚMEROS E DESENHOS:

PAPAI		
VOVÔ		
CEBOLINHA		

blogdaprofessoraedivania.blogspot.com.br