



ජ්‍යාමිතික හැඩතල හඳුනා ගැනීම

යූ.ඒ. විතානගේ
රුවන්පුර ජාතික අධ්‍යාපන විද්‍යාපීඨය
ප්‍රාථමික අංශය

1884



වෘත්තය

වෘත්තය දැකිය හැකි ආකාර.



ලක්ෂණ -

o රවුම් හැඩයක් ගනී.



සාජුකෝණාසුය

සාජුකෝණාසුය දැකිය හැකි ආකාර.



ලක්ෂණ -

- පැති හතරක් ඇත.
- පැති දෙක බැගින් සමාන වේ.



ත්‍රිකෝණය

ත්‍රිකෝණය දැකිය හැකි ආකාර.



ලක්ෂණ -

- පැති තුනක් ඇත.




සමචතුරසුය

සමචතුරසුය දැකිය හැකි ආකාර.



ලක්ෂණ -


- පැති හතරක් ඇත.
- පැති හතරම සමානයි.



වෘත්තය.



සෘජුකෝණාස්‍රය.



ත්‍රිකෝණය.



සමචතුරස්‍රය.


Activity

යා කරන්න.


වෘත්තය.




සෘජුකෝණාස්‍රය.





ත්‍රිකෝණය.



සමචතුරස්‍රය.





පැති හතරම
සමානයි.

පැති තුනක්
අත.

පැති දෙක
බැගින් සමාන
වේ.

රවුම් හැඩයක්
ගනී.