
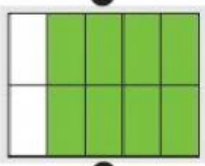
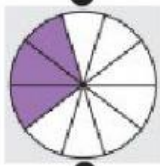



Nama : .....

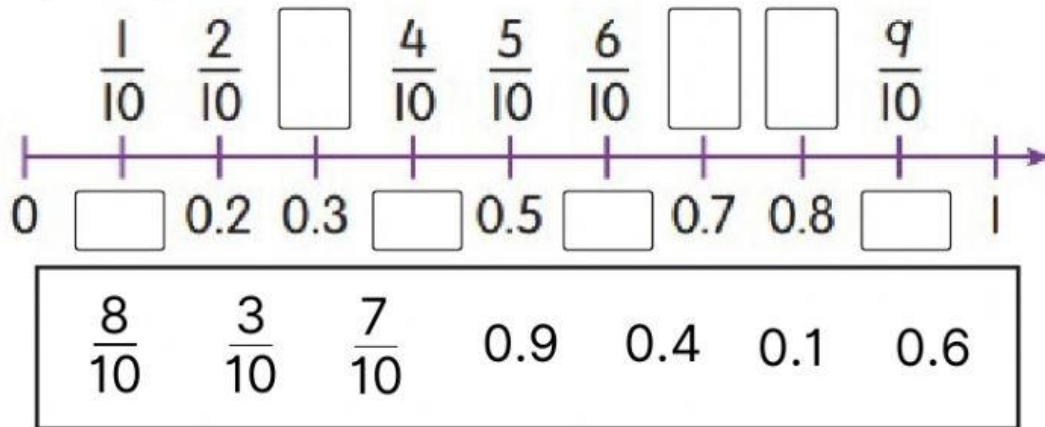
Kelas : .....

**Latihan**

1. Padankan dengan gambar rajah.

$\frac{3}{10}$	$\frac{6}{10}$	$\frac{4}{10}$	$\frac{8}{10}$
			
0.8	0.4	0.6	0.3

2. Lengkapi garis nombor di bawah.



3. Berdasarkan garis nombor di atas, bandingkan perpuluhan. Tulis "lebih besar daripada" atau "lebih kecil daripada".

- a) 0.3 \_\_\_\_\_ 0.1
- b) 0.2 \_\_\_\_\_ 0.6
- c) 0.7 \_\_\_\_\_ 0.9

4. Bandingkan pecahan dan perpuluhan. Tulis "lebih daripada", "kurang daripada" atau "sama dengan".

- a) 0.4 \_\_\_\_\_  $\frac{7}{10}$
- b)  $\frac{5}{10}$  \_\_\_\_\_ 0.5
- c) 0.8 \_\_\_\_\_  $\frac{3}{10}$