

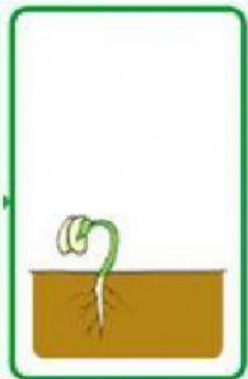
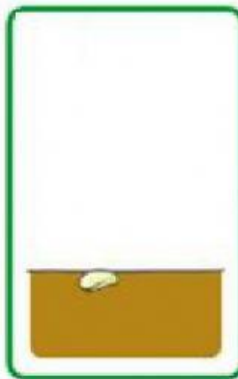
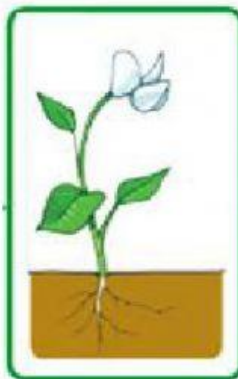


El ciclo de vida de la planta

- Resuelve.

1. Ordena las etapas del ciclo de vida de la planta.

1	2	3	4	5
---	---	---	---	---



2. Completa:


La planta nace de una _____ en la cual germina,
e inicia su _____ hasta alcanzar
su madurez hasta _____ integrándose nuevamente
a la tierra.

3. Nacimiento de una planta a partir de una semilla, ¿qué es?

Fotosíntesis

Germinación


Fluorización

4. De la  brota primero.



5. De la  brotan.



6. Dentro de los  hay.



7. La tierra, el agua, el aire y el sol, a la planta le sirve para:

Verse bella

Como abrigo

Como alimento

8. ¿Qué elemento para producir su propio alimento se encuentra sobre la tierra?

aire

sol

Sales minerales

9. ¿Cuáles son los elementos importantes para el crecimiento de la planta?

- _____
- _____
- _____
- _____

10. Ubica cada cartel según su definición en la parte que le corresponde.



Órgano reproductor de la planta.

Mantiene a la planta sujeta al suelo.

Contiene la semilla de la planta

Sostiene la hoja, las flores y los frutos

Capta la luz solar, el aire y el agua para elaborar su propio alimento.