

# Liceo Británico de México

## MATEMÁTICAS 2

Nombre del alumno:

ASPECTOS A EVALUAR	RASGO A EVALUAR	SI	NO
PENSAMIENTO MATEMATICO	TEMPORALIDAD Y UNIDADES DE TIEMPO		
	NOCION DE CANTIDAD		
	RESOLUCIÓN DE PROBLEMAS		
	CUERPOS GEOMETRICOS		
	SISTEMA MONETARIO		
	RESOLUCION DE PROBLEMAS		
	SECUENCIA DE NUMEROS		

1. Llena el siguiente calendario

AGOSTO 2017						
DOMINGO	LUNES	MARTES	MIERCOLES	JUEVES	VIERNES	SABADO
		1				5
			9			
	14			17		
20					25	
				31		


2. Cuántos libros hacen falta para que a cada niño le toque uno a cada quién?



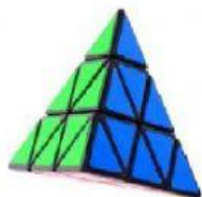
3.- Anota con número *EL DOBLE* pelotas en el rectángulo vacío.





4.- Anota con número *LA MITAD* manzanas en el rectángulo vacío.



5. Une con una línea los dibujos que tiene forma parecida.



Observa los precios de los juguetes y el dinero que tiene cada niño y contesta las preguntas.



6.- ¿Quién tiene más dinero?

7.- ¿Cuánto dinero tiene Manuel?

8.- ¿Cuánto dinero tiene Oscar?

9.- Manuel se compró un juguete y le sobro \$5.00, que juguete se compró?

10.- ¿Cuál es el juguete más barato?

11.- ¿Cuál es el juguete más caro?

21.-Escribe los números que faltan en la secuencia.

