













Les nombres

1. Associe les images aux images. Attention compte bien les objets

| | | | | |
|--------|---|---|--|-------|
| un |  |  |  | douze |
| deux |  |  |  | onze |
| trois |  |  |  | dix |
| quatre |  |  |  | neuf |
| | cinq | six | sept | huit |

2. Ecris le nombre correct de chaque gâteau



1 Elle a trois ans.



2 Il a ans.



3 Il a



4

Et toi quel âge tu as ? J'ai ans