


Bilangan Bulat

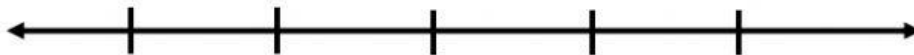
Simak Video berikut



Jawablah soal berikut dengan benar !

1. Susunlah bilangan-bilangan berikut pada garis bilangan, urutkan mulai dari yang terkecil

Petunjuk : Drag & drop (klik/sentuh bilangan pada kotak, kemudian geser dan lepas di bawah garis bilangan)



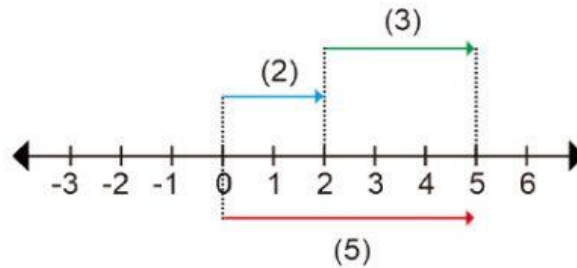
1 -3 -5 0 4

2. Bandingkan kedua bilangan bulat berikut dengan memberi tanda > atau <

Petunjuk : Lengkapi pertanyaan berikut dengan klik tanda V untuk memilih jawaban

- a. -1 0
- b. 2 -5
- c. -7 -4
- d. 4432 4298

3. Hasil operasi hitung yang ditunjukkan pada garis bilangan di bawah ini adalah



4. Tariklah garis ke kotak jawaban yang benar!

$$2 - (-6) + 3$$

6

$$6 + (-2) \times 4$$

-7

$$(10 : 2) + (2 \times (-5)) - 2$$

11

$$-6 + (6 : 2) - (-3 \times 3)$$

-2


5. Dalam kompetisi matematika, setiap jawaban yang benar diberi nilai 4, salah -2 dan tidak dijawab -1. Dari 40 soal yang diberikan, Rini berhasil menjawab benar 31 soal dan tidak dijawab 3 soal. Berapakah skor yang diperoleh Rini?

Skor soal yang dijawab benar = $\quad \times \quad =$

Skor soal tidak dijawab = $\quad \times \quad =$

Skor soal yang dijawab salah = $\quad \times \quad =$

Skor yang diperoleh Rini adalah



Bilangan Pecahan



6. Urutkan pecahan berikut dari yang terbesar hingga terkecil

$$\frac{6}{8}$$

$$\frac{2}{5}$$

$$\frac{7}{5}$$

$$\frac{3}{8}$$

$$\frac{5}{8}$$



7. Tariklah garis ke kotak jawaban yang benar!

$$\frac{3}{9} + \frac{5}{7}$$

$$\frac{15}{16}$$

$$\frac{6}{14} - \frac{2}{7}$$

$$\frac{66}{63}$$

$$\frac{5}{8} : \frac{2}{3}$$

$$\frac{1}{7}$$

By : Neneng Kurniawati, S. Pd

