


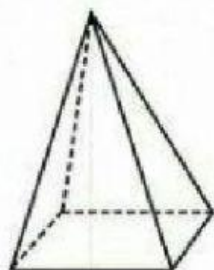
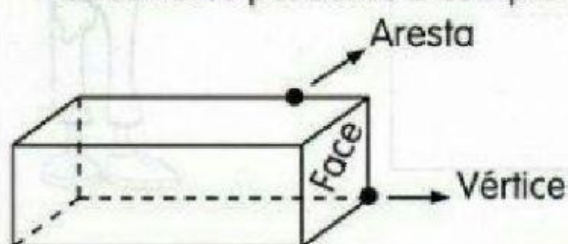
Nome: _____ Turma: _____

SÓLIDOS GEOMÉTRICOS



Poliedros são os sólidos que possuem todas as partes planas.

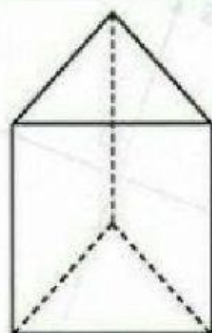
Observe os poliedros e complete.



Quantas faces? _____

Quantas arestas? _____

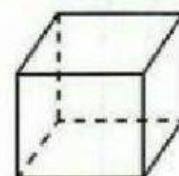
Quantos vértices? _____



Quantas faces? _____

Quantas arestas? _____

Quantos vértices? _____



Quantas faces? _____

Quantas arestas? _____


Quantos vértices? _____



Quantas faces? _____

Quantas arestas? _____

Quantos vértices? _____



Quantas faces? _____

Quantas arestas? _____

Quantos vértices? _____



LEIA COM ATENÇÃO E RESPONDA.

Bianca tem uma coleção de figurinhas e quer dividir com sua prima, de maneira que ela fique com o triplo do valor da prima. Ajude ela na divisão.



Ao todo são 16 figurinhas



Bianca vai
ficar com ____
figurinhas



A prima de
Bianca vai
ficar com ____
figurinhas

Guilherme tem 15 carrinhos e quer dividir com seu irmão, de maneira que ele fique com o dobro do valor do irmão. Ajude ele na divisão.



Ao todo são 15 carrinhos



Guilherme vai ficar
com ____ carrinhos.



O irmão de
Guilherme vai ficar
com ____ carrinhos.