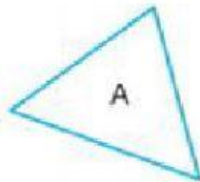
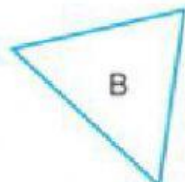


ใบงาน ความเท่ากันทุกประการของรูปเรขาคณิต

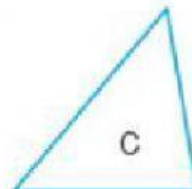
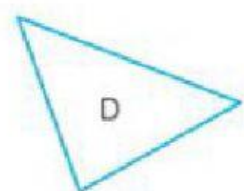
ความเท่ากันทุกประการ ม.2

จงหาว่าในแต่ละข้อต่อไปนี้ รูปเรขาคณิตคูใดเท่ากันทุกประการ

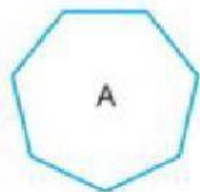
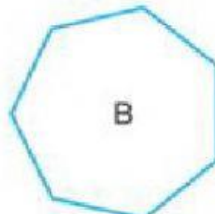
1

รูป A \cong 

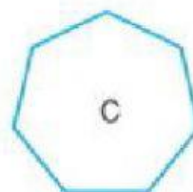
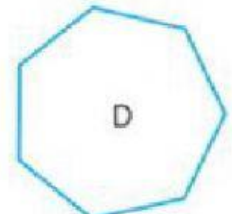
และ

รูป C \cong 

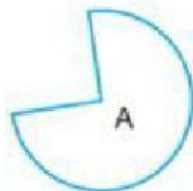
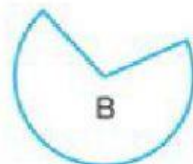
2

รูป A \cong 

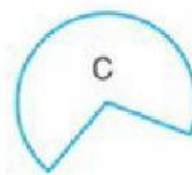

และ

รูป B \cong 

3

รูป A \cong 

และ

รูป B \cong 

ข้อความในแต่ละข้อต่อไปนี้ เป็นจริงหรือไม่

- 1 รูปสามเหลี่ยมสองรูปที่มีขนาดของมุมเท่ากันสามคู่ จะเท่ากันทุกประการ
- 2 รูปสี่เหลี่ยมสองรูปที่มีด้านยาวเท่ากันทั้งสี่ด้าน ด้านต่อด้าน จะเท่ากันทุกประการ
- 3 วงกลมสองวงที่มีเส้นรอบวงยาวเท่ากัน จะเท่ากันทุกประการ
- 4 รูปสามเหลี่ยมสองรูปที่มีพื้นที่เท่ากัน จะเท่ากันทุกประการ