

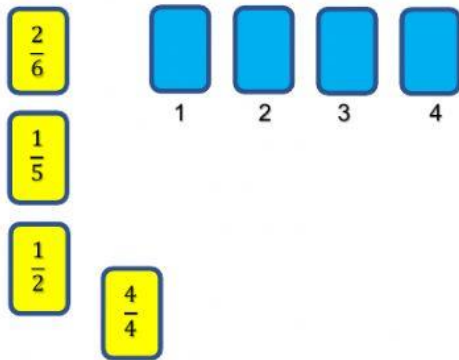


PECAHAN

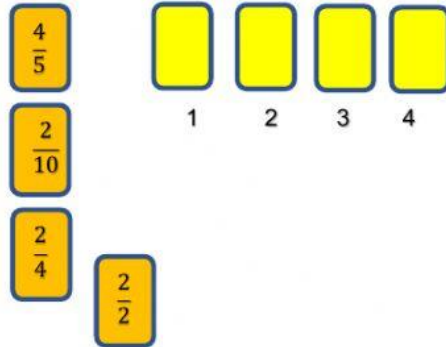


Nama siswa diisi saat penyerahan tugas

Urutkan pecahan berikut dari yang terkecil dengan memindahkan, tekan angka dan geser ke kotak yang dituju.



Urutkan pecahan berikut dari yang terbesar dengan memindahkan, tekan angka dan geser ke kotak yang dituju



Hubungkan pecahan berikut dengan pecahan senilai dengan cara menekan angka di kiri kemudian geser menuju kotak di kanan!



Setengah jumlah kelereng Edo adalah 30 butir. Berapa jumlah kelereng Edo seluruhnya?

Jumlah kelereng Edo seluruhnya butir.

Dari beberapa pecahan disamping pecahan yang memiliki nilai yang sama adalah ...

Klik pada jawaban yang kamu anggap benar!

2/4 dan 3/12

2/4 dan 4/8

6/14 dan 3/16

5/15 dan 4/8

$\frac{12}{24}$ nilai pecahan sederhana pecahan disamping adalah...

12/28

3/6

1/2

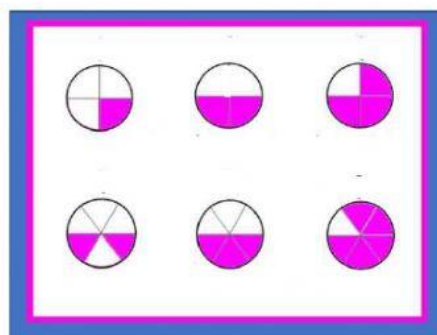
2/4

Tekan dan seret pecahan di samping menuju gambar yang senilai!

2/8

1/2

1/3



6/8

3/6

10/12