






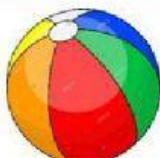









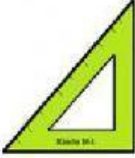








**CENTRO DE DESARROLLO INFANTIL "DISNEY GARDEN"**  
EVALUACIÓN DE INICIAL 2 (SUBNIVEL 1)



|                                    |   |
|------------------------------------|---|
| DOCENTE A CARGO                    | Lic. Dayanara Ortiz   |
| ÁMBITO DE DESARROLLO Y APRENDIZAJE | RELACIONES LÓGICO MATEMÁTICAS   |
| DESTREZA A EVALUAR                 | Descubrir formas básicas circulares, cuadrangulares, triangulares y rectangulares en objetos del entorno. |

- ♥ NOMBRA ¿QUÉ FIGURAS GEOMÉTRICAS SON? (GRABA TUS RESPUESTAS)
- ♥ SELECCIONA LOS OBJETOS QUE TIENEN LA FORMA DE LA MUESTRA.

**LAS FIGURAS GEOMÉTRICAS**

|   |   |
|---|---|
| <br>    |           |
| <br>    |           |
| <br>    |           |
| <br> |     |