



**LKPD IPA Kelas IX**  
**Reproduksi Pada Tumbuhan (I)**  
**Pertemuan Ke 4**  
**SMP Islam Dewan Da'wah**

**Nama Siswa :**

**Kelas :**

A. Isi Tabel Berikut Dengan Pilihan Jawaban Yang terdapat di bawah tabel !  
Kerjakan dengan memasangkan (bawa kotak bertulisan dibawah ke dalam tabel)

No	Pembeda	Reproduksi	
		Vegetatif	Generatif
<b>1</b>	Induk		
<b>2</b>	Asal Keturunan		
<b>3</b>	Sifat Keturunan		

1 Individu

Fertilisasi

2 Individu

Bagian tubuh induk

perpaduan


Sama dgn induk



B. Cocokkan gambar tumbuhan dengan jenis perlembangbiakannya. Cocokkan dengan menarik garis dari gambar ke tulisan yang tepat.



**Tunas adventif**



**Umbi lapis**

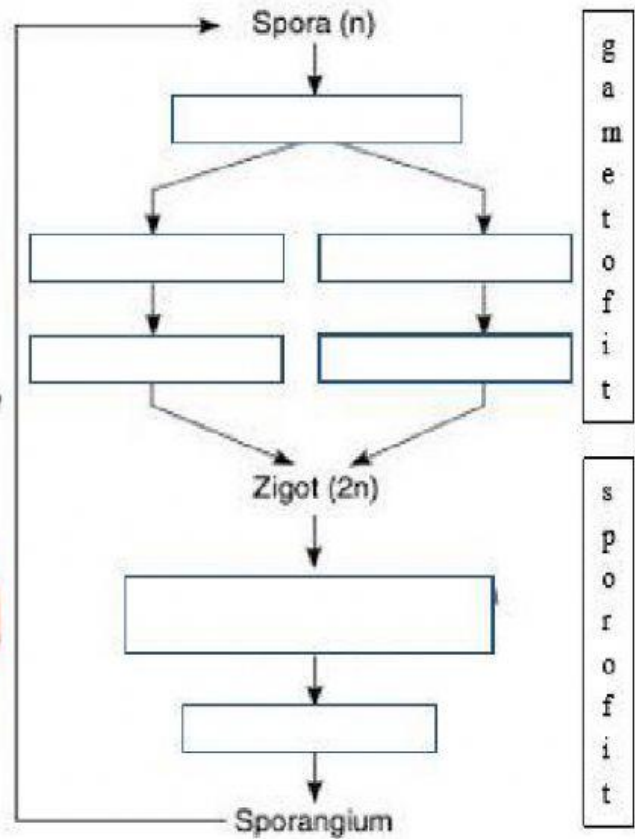
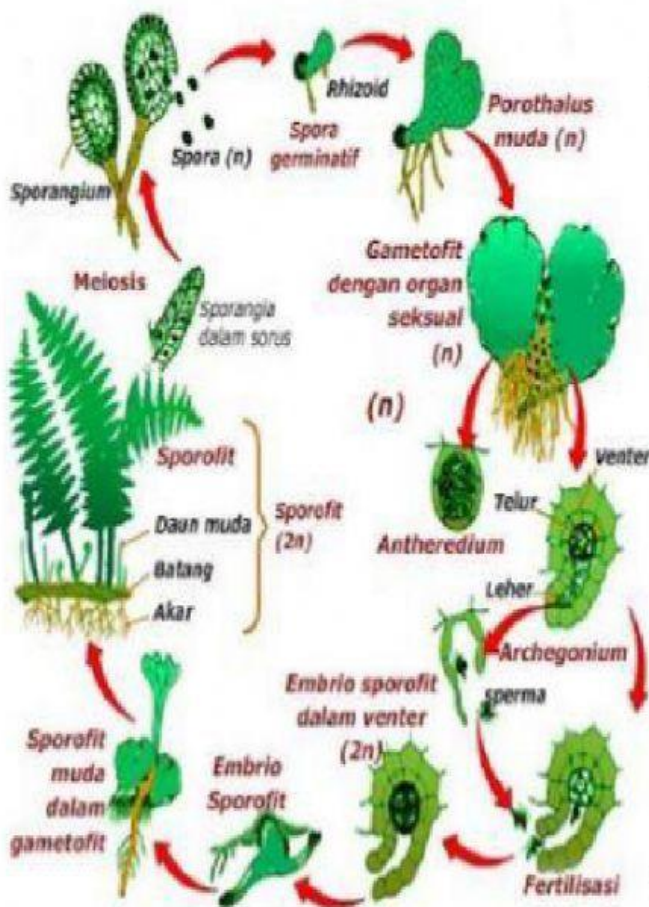


**stolon**



**Umbi batang**

C. Tentukan fase pertumbuhan yang tepat di tiap kolom dengan memilih tahapan pada kolom yang disediakan (klik segitiga kecil di pojok kotak yang disediakan)



Sumber gambar <https://ekosistem.co.id/metagenesis-tumbuhan-paku/>