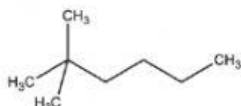


REFUERZO - SEGUNDO PARCIAL PRIMER QUIMESTRE

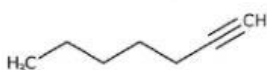
1. Relacione la imagen con el compuesto lineal respectivo



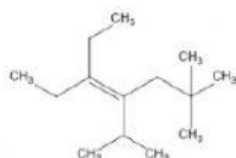
Compuesto alifático lineal - insaturado



Compuesto alifático ramificado – insaturado

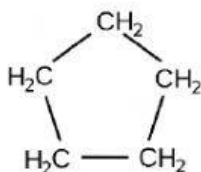


Compuesto alifático lineal – saturado

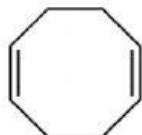


Compuesto alifático ramificado – saturado

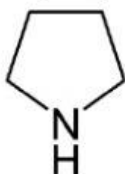
2. Relacione la imagen con el compuesto cíclico respectivo respectivo



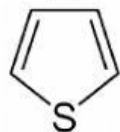
Compuesto homocíclico insaturado



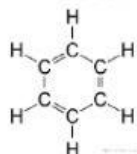
Compuesto homocíclico saturado



Compuesto heterocíclico insaturado

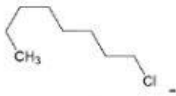


Compuesto heterocíclico saturado

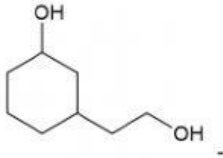


Compuesto aromático

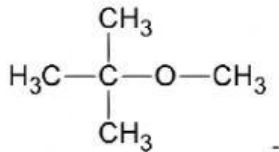
3. Relacione la imagen con el grupo funcional correspondiente



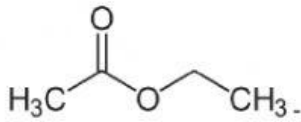
Éter



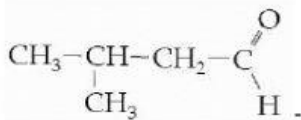
Aldehído



Éster

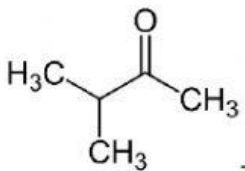


Alcohol

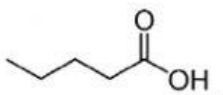


Haluro de Alquilo

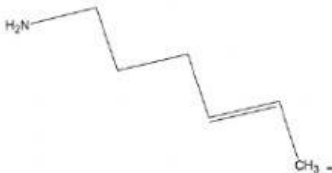
4. Relacione la imagen con el grupo funcional correspondiente



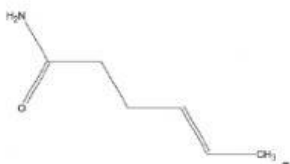
Amida



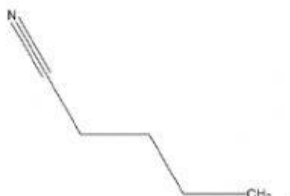
Amina



Nitrilo

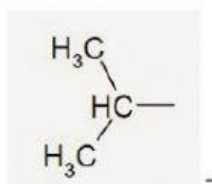


Cetona

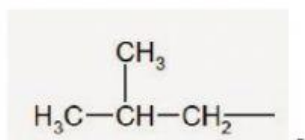


Ácido carboxílico

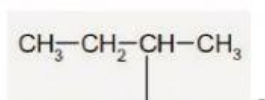
5. Relacione la imagen con el nombre correcto del radical



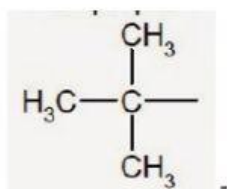
Neopentil



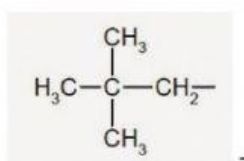
terbutil



isobutil



secbutil



Isopropil