











数学 (评估五)

单元五：时间 《认识时刻》

A: 选出 1 个正确的答案。

1.	<input type="text" value="1:05"/>		<input type="text" value="8:05"/>
	<input type="text" value="1:40"/>		<input type="text" value="9:05"/>
2.	<input type="text" value="2:20"/>		<input type="text" value="2:40"/>
	<input type="text" value="3:20"/>		<input type="text" value="4:10"/>
3.	<input type="text" value="12:15"/>		<input type="text" value="9:05"/>
	<input type="text" value="12:45"/>		<input type="text" value="1:45"/>
4.	<input type="text" value="6:45"/>		<input type="text" value="10:30"/>
	<input type="text" value="6:50"/>		<input type="text" value="9:30"/>

B: 填写正确的答案(数字)。

1.		2.		3.	
<input type="text"/> 分钟		<input type="text"/> 分钟		<input type="text"/> 分钟	
4.		5.		6.	
<input type="text"/> 分钟		<input type="text"/> 分钟		<input type="text"/> 分钟	