


Sumar al revés



Cuenta los cuadros.




Escoge cuántos son: _____



¿Cuántos cuadros se **agregaron**? _____




Escoge cuántos son ahora: _____



Cuenta los cuadros.




Escoge cuántos son: _____



¿Cuántos cuadros se quitaron? _____



¿Cuántos cuadros verdes quedaron: _____



Ahora entiendo:

Si a **doce** le quito **cuatro**
entonces quedan **ocho**



$$12 - 4 = 8$$