


COLEGIO SANTA ELENA

TERCER BLOQUE

SERIE I

INSTRUCCIONES: Indica si las siguientes maquinas son simples o compuestas



SERIE II

INSTRUCCIONES: Une con una línea a donde corresponda.

Tubo cilíndrico que da vueltas alrededor de un eje para aplastar, estirar...

Disco que puede girar alrededor de un eje

Barra rígida y resistente que se mueve sobre un apoyo

Superficie con una inclinación que sirve para desplazar (subir o bajar) objetos y salvar obstáculos como escaleras

El plano inclinado o rampa

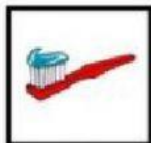
La rueda

El rodillo

La palanca

SERIE III

INSTRUCCIONES: Une con una línea la herramienta a su utilidad.



Herramienta que sirve para pintar

Herramienta que sirve para comer

Herramienta que sirve para lavarte los dientes

Herramienta que sirve para sentarse.

Herramienta que sirve para que ruede el carro.

Herramienta para cortar y hacer manualidades

Herramienta que sirve para clavar clavos.

Herramienta que sirve para escribir.

ES UN INSTRUMENTO MUSICAL CON CUERDAS

ES UNA HERRAMIENTA QUE SIRVE PARA CLAVAR CLAVOS

OBJETO QUE NOS SIRVE PARA PINTAR CON ACUARELAS


OBJETO UE SIRVE PARA LAVARTE LOS DIENTES

CUBIERTO QUE SE UTILIZA PARA COMER CUALQUIER ALIMENTO

OBJETO QUE SE ULTIZA CON EL ORDENADOR TIENE NOMBRE DE ANIMAL

SIRVE PARA CORTAR Y HACER MANIJALIDADES

EL AUTO TIENE 4 Y LA MOTO 2



SERIE IV

INSTRUCCIONES: Clasifica las herramientas.



MANUALES	MECÁNICAS