


IGUALDAD Y DESIGUALDAD



MATEMÁTICA 2° BÁSICO

1  Completa las cantidades. Luego, **compara** y encierra el símbolo que corresponda.


a.





b.



c.



2  Dibuja  para que se cumpla la relación.

a.




b.



c.



3  **Compara** las cantidades y completa con $>$, $<$ o $=$.

a. 11 $7+3$

d. $11+5$ $8+6$

g. 15 $10+3$

b. $6+6$ 14

e. $13+4$ 17

h. $11+2$ $7+8$

c. $9+4$ 13

f. $9+6$ $8+8$

i. $12+4$ $7+10$

Problema

4  **Resuelve.**

¿Cuántas  hay en  ?

