



LEMBAR KERJA PESERTA DIDIK

UNSUR – UNSUR
LINGKARAN



NAMA SISWA :

NO. ABSEN :

KELAS

6



PETUNJUK Pengerjaan LKPD

1. Tuliskan nama lengkap dan no absen pada lembar LKPD
2. Kerjakan langsung pada lembar LKPD berbasis *Liveworksheet*
3. Kerjakanlah setiap langkah di LKPD secara runtut dan sistematis
4. Tuliskan jawabanmu pada kolom yang telah disediakan
5. Persiapkan alat dan bahan
 - a. Alat :
 - Jangka
 - Penggaris
 - Pensil
 - Penghapus
 - b. Bahan : Buku Tulis
6. Pada saat sampai di kegiatan menggambar, gunakan buku tulis mu.

TUJUAN PEMBELAJARAN

1. Setelah melakukan eksplorasi mengamati lingkaran di sekitar, siswa mampu menganalisis bentuk lingkaran dan manfaatnya dalam kehidupan sehari-hari dengan benar.
2. Setelah melakukan eksplorasi mengamati lingkaran di sekitar, siswa mampu menjelaskan pengertian lingkaran
3. Setelah mengamati video yang ditayangkan pada powerpoint tentang Unsur-unsur lingkaran, siswa dapat menuliskan 8 unsur-unsur lingkaran dengan benar
4. Setelah mengamati video yang ditayangkan pada powerpoint tentang Unsur-unsur lingkaran, siswa dapat menghubungkan garis unsur-unsur lingkaran sesuai dengan pengertian nya dengan tepat.
5. Setelah mengamati video yang ditayangkan pada powerpoint tentang cara membuat lingkaran dengan bantuan Jangka dan penggaris, Siswa dapat membuat lingkaran dengan bantuan jangka dan penggaris sesuai dengan petunjuk.
6. Setelah membuat lingkaran, siswa dapat menentukan unsur-unsur lingkaran dengan tepat
7. Setelah membuat lingkaran, siswa dapat memberi nama unsur-unsur lingkaran dengan tepat



Pernahkah kamu pergi kepasar malam dan melihat jenis permainan bianglala? Permukaan Bianglala berbentuk lingkaran. Selain bianglala, ada berbagai benda yang memiliki permukaan berbentuk lingkaran.

AYO EKSPLORASI

Cobalah amati lingkungan disekitarmu. Adakah benda yang berbentuk Lingkaran ? Analisis lah benda dibawah ini apakah termasuk kedalam bentuk lingkaran ?



Setelah kamu berhasil menganalisis benda yang termasuk kedalam lingkaran, Coba Jelaskan apa yang dimaksud lingkaran



Cermati Video tentang Unsur - Unsur Lingkaran berikut ini !



Setelah kalian mengamati video tersebut, Coba tuliskan
Unsur - unsur lingkaran



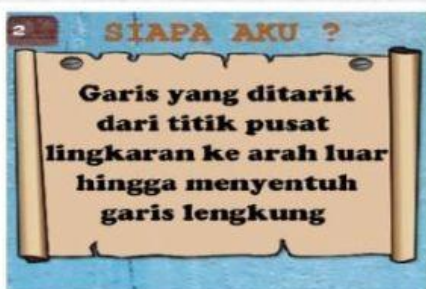
AYO MENALAR

Hubungkanlah dengan garis unsur - unsur
lingkaran sesuai dengan pengertian nya.

**TEBAK
SIAPAKAH
AKU**



Jari - Jari

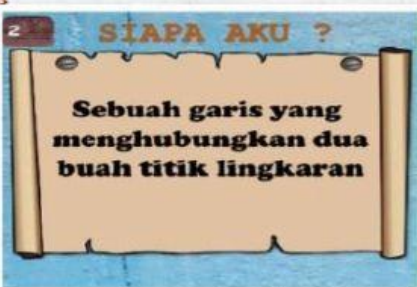


Titik Pusat





Tali Busur



Tembereng

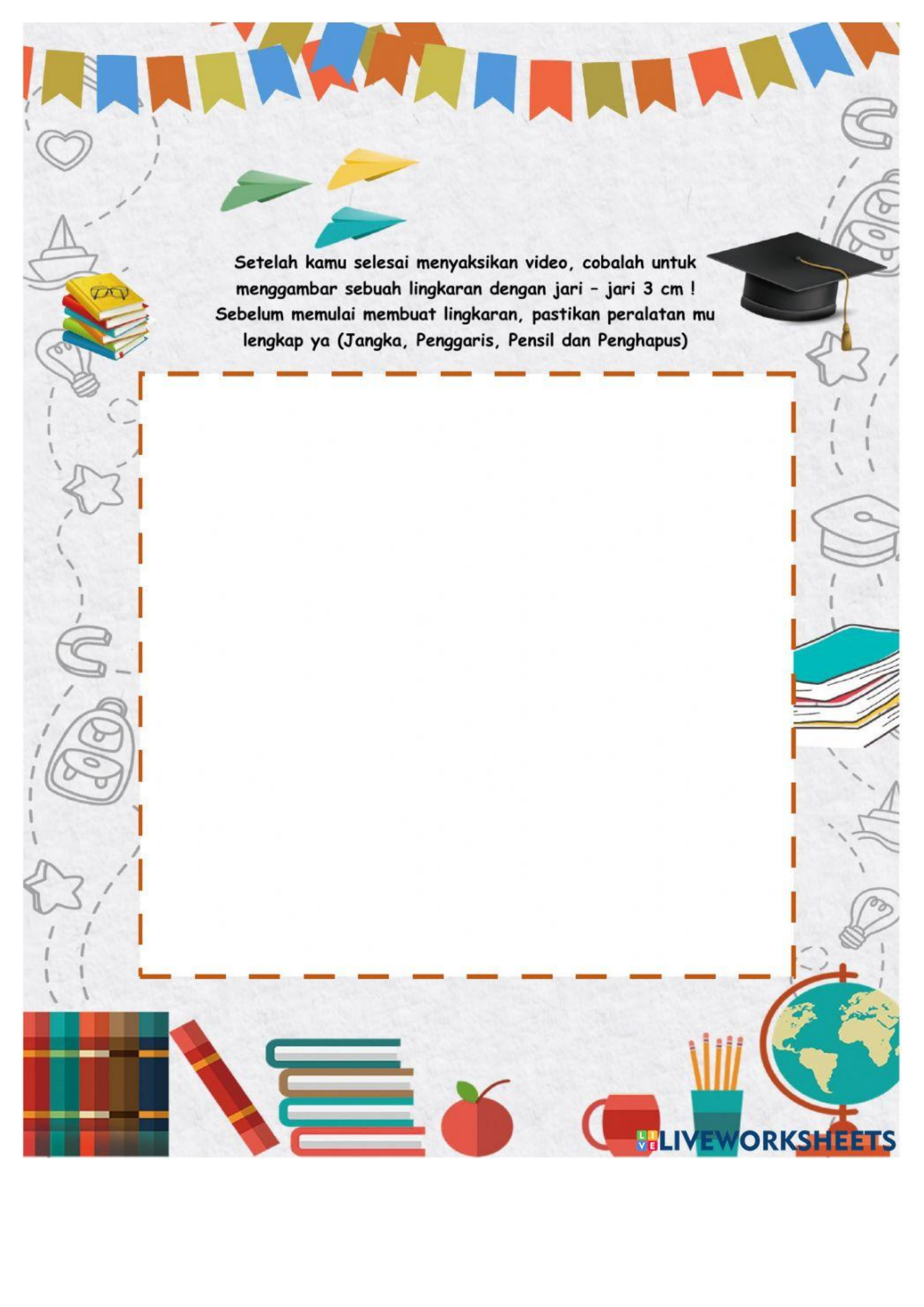


AYO MENALAR

Pernahkan kamu membuat sebuah lingkaran? Alat apa yang kamu gunakan dalam membuat lingkaran? Dan bagaimana cara penggunaan alat nya ?

Cermati Video tentang Cara penggunaan Jangka !

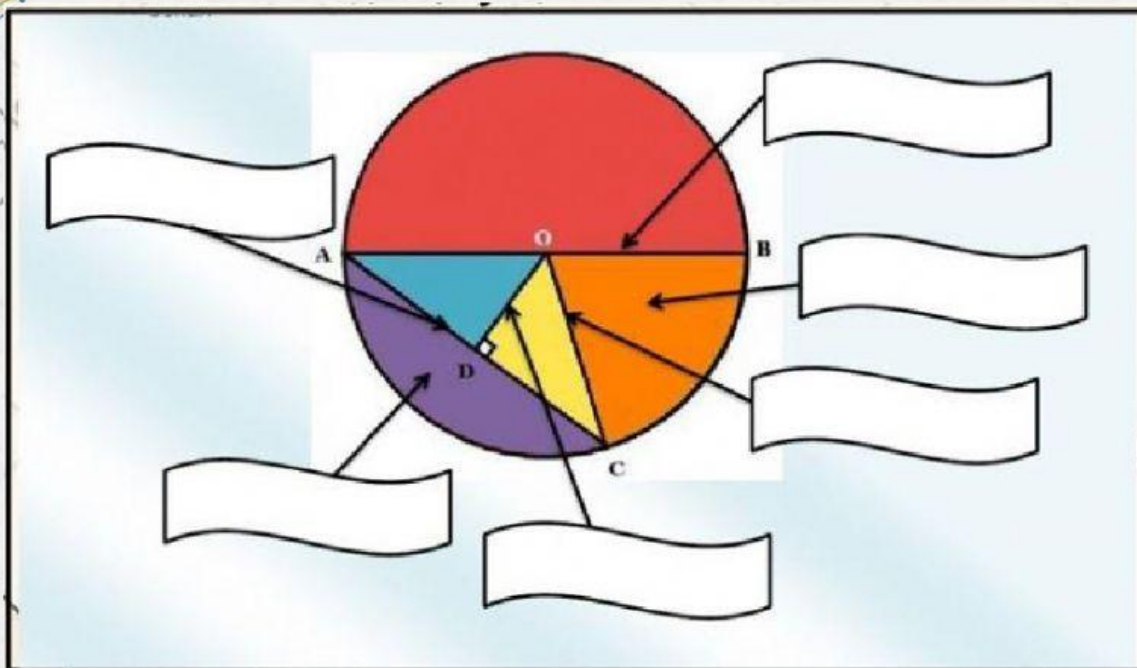




Setelah kamu selesai menyaksikan video, cobalah untuk menggambar sebuah lingkaran dengan jari - jari 3 cm !
Sebelum memulai membuat lingkaran, pastikan peralatan mu lengkap ya (Jangka, Penggaris, Pensil dan Penghapus)



Coba kamu isi bagian-bagian yang kosong, dengan cara menggeser jawaban kedalam kotak yang kosong sesuai dengan tempatnya.



Tali Busur

Diameter

Jari - Jari

Juring

Tembereng

Apotema

Coba kamu isi bagian-bagian yang kosong, dengan cara menulis nama unsur-unsur lingkaran sesuai dengan gambar.

