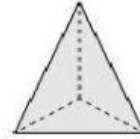
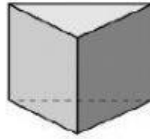
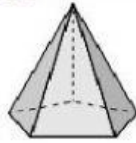
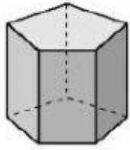
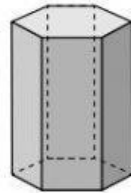
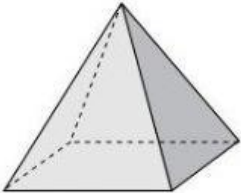


FICHA TEMA 12

Clasifica estos prismas y pirámides.

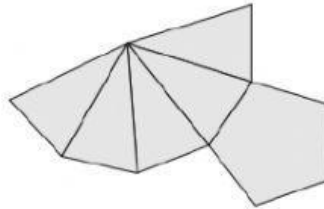
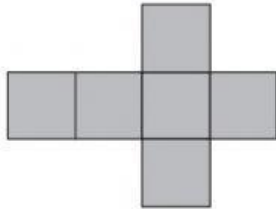


Escribe, para cada cuerpo, cuántas bases, vértices, caras y aristas tiene.



CARAS: VÉRTICES: ARISTAS: CARAS: VÉRTICES: ARISTAS:

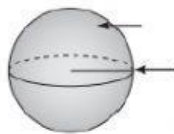
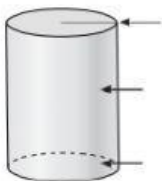
Escribe qué tipo de prisma o pirámide se obtiene al doblar y plegar estas figuras.



Escribe verdadero o falso para cada oración.

- Un prisma pentagonal tiene 10 vértices. ▶ _____
- Un pirámide cuadrangular tiene 4 caras laterales. ▶ _____
- Un prisma hexagonal tiene 12 aristas. ▶ _____
- Una pirámide triangular tiene 4 vértices. ▶ _____
- Un prisma hexagonal tiene 12 caras. ▶ _____

Escribe el nombre de cada cuerpo y de los elementos indicados.



Escribe qué cuerpo geométrico es a partir de su descripción.

- Es un prisma y tiene 10 vértices. ▶ _____
- Es un cuerpo redondo sin vértices. ▶ _____
- Es una pirámide y tiene 6 aristas. ▶ _____
- Es un cuerpo redondo y tiene un vértice. ▶ _____

ESTAS DIVISIONES LA HACES EN UN PAPEL Y AQUÍ PONES LA SOLUCIÓN

Divide y haz la prueba.

$$1.375 : 6$$

$$16.489 : 8$$

$$64.725 : 3$$

RES: RESTO:

RES: RESTO:

RES: RESTO: