



LEMBAR KERJA PESERTA DIDIK (LKPD)

Kelas/Semester : VI / I
Tema : 1. Selamatkan Mahluk Hidup
Sub tema : 1. Tumbuhan Sahabatku
Jenis LKS : Penguatan Konsep
Tanggal :

NAMA : NO. ABSEN :

A. PETUNJUK BELAJAR

1. Sebelum mengerjakan soal-soal, baca materi dengan baik
2. Kerjakan soal-soal dengan cara mengetik jawaban kalian pada kolom yang sudah disediakan

B. TUJUAN PEMBELAJARAN

1. Dengan membaca wacana yang berjudul “ **Bagaimana Jagung Berkembang Biak** ?”, siswa mampu melengkapi diagram dengan menuliskan ide pokok dari masing-masing paragraf secara tepat.
2. Dengan memperhatikan gambar bagian- bagian bunga dan nama-namanya , siswa dapat memandukan antara gambar bagian bunga dan namanya secara tepat.
3. Dengan mengamati gambar peta negara ASEAN dan nama negaranya , Siswa dapat menghubungkan antara nama negara dan wilayahnya secara tepat .
4. Dengan membaca materi tentang ASEAN, Siswa dapat menentukan jawaban yang tepat tentang pertanyaan yang berhubungan dengan materi tersebut secara tepat.

:

C. WAKTU MENGERJAKAN : 50 Menit

Bacalah wacana berikut dengan teliti, kemudian lengkapi diagram berikut ini !

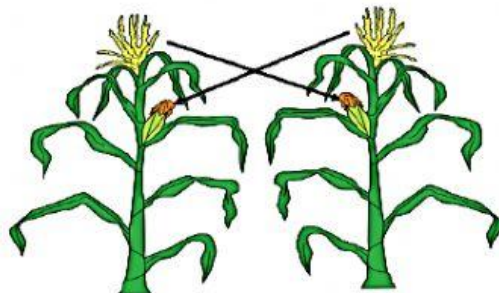
Bagaimana Jagung Berkembang Biak?

Jagung merupakan salah satu tanaman yang dijadikan bahan makanan pokok di berbagai negara, salah satunya di Indonesia. Di Indonesia, penduduk Pulau Madura menjadikan jagung sebagai makanan pokoknya. Jagung merupakan salah satu tanaman penghasil karbohidrat yang sangat diperlukan oleh tubuh.



Seorang petani jagung, memulai pembiakan tanamannya dengan menanam biji jagung. Setelah tiga sampai empat hari bakal tanaman akan muncul di permukaan tanah. Tanaman jagung akan terus tumbuh menjadi besar. Tiga hingga tiga setengah bulan, buah jagung dapat dipanen oleh petani. Buah jagung yang berbentuk seperti tongkol pada mulanya berupa sekuntum bunga.

Bunga jagung memiliki helai-helai rambut halus pada bagian ujungnya. Pada helai rambut tersebut terdapat tepung sari. Tepung sari akan terbang terbawa angin ketika angin bertiup. Tepung sari yang terbawa angin, sebagian akan jatuh di kepala putik yang terletak di bagian bawah bunga pada pohon jagung yang lain. Ketika itulah terjadi pembuahan.



Setelah terjadi pembuahan, bunga jagung tersebut terus berkembang hingga menjadi buah jagung. Perkembangan itulah yang dapat diamati dari waktu ke waktu. Buah jagung akan siap dipanen ketika rambut jagung sudah berwarna kecokelatan dan bagian tongkolnya sudah mengering. Apabila buah jagung tersebut dikupas akan memperlihatkan biji jagung yang kekuningan. Bagian yang dimakan oleh manusia adalah biji jagung.

Supaya jagung selalu tersedia sebagai bahan makanan manusia, maka petani jagung harus menanam kembali sebagian biji jagung dari hasil panen. Biji jagung yang tua dapat ditanam kembali. Dari sinilah akan dimulai lagi perkembangbiakan jagung.

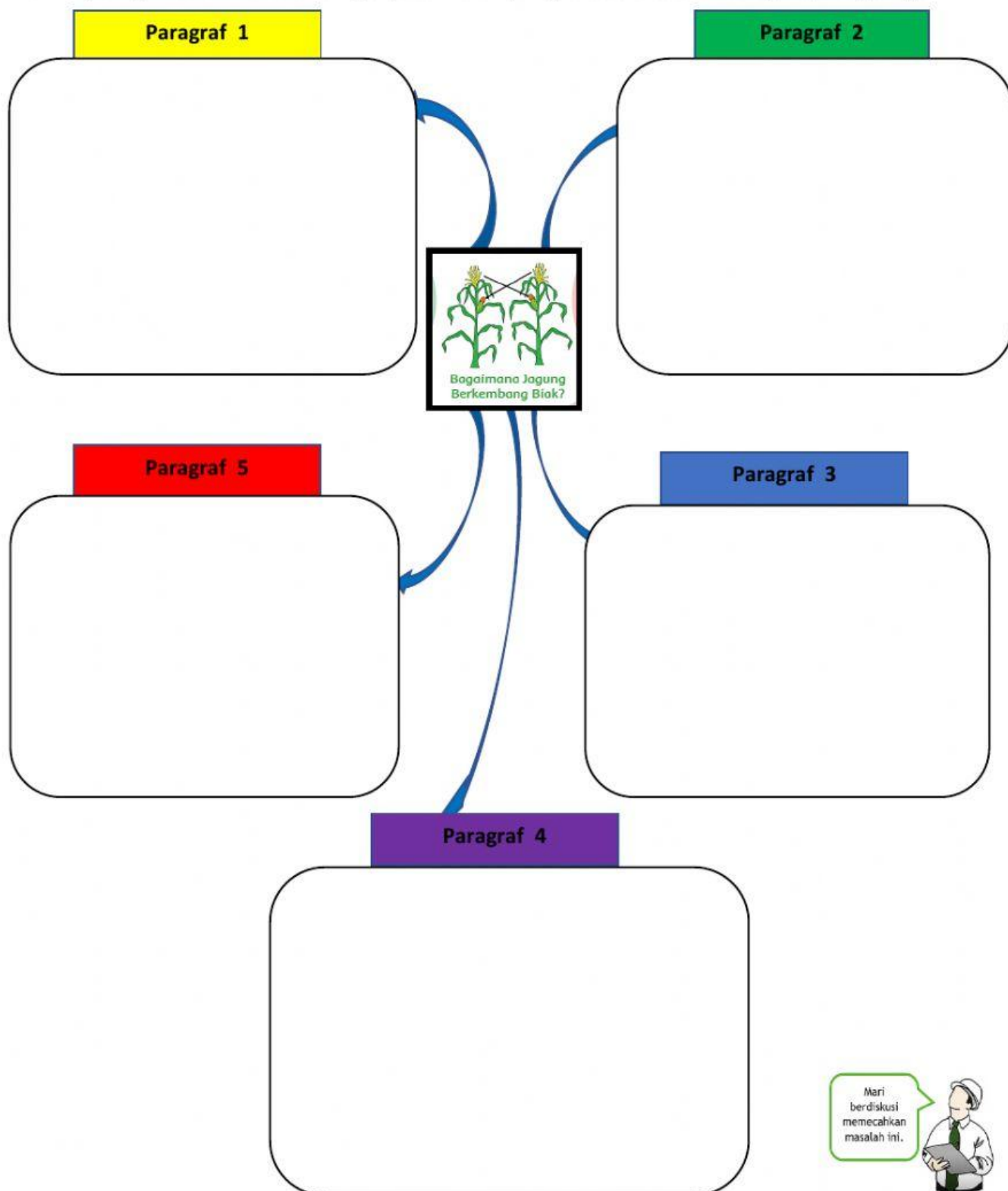
Oleh : Nuniek



KEGIATAN 1

LENGKAPILAH DIAGRAM BERIKUT INI !

Tentukanlah Ide Pokok dari masing –masing paragraf wacana “ **Bagaimana Jagung Berkembang Biak ?**”,dengan cara menuliskannya pada kotak yang tersedia sesuai dengan paragrafnya.




Mari berdiskusi memecahkan masalah ini.





KEGIATAN 2

Padukanlah bagian –bagian bunga dengan namanya secara tepat ! (dengan meletakan kotak warna hijau pada kotak yang berwarna kuning)



BAGIAN-BAGIAN BUNGA





KEGIATAN 3

HUBUNGKAN ANTARA NAMA DAN WILAYAH NEGARNYA DENGAN TEPAT (dengan cara menarik garis nama negara dengan wilayahnya secara tepat)



KEGIATAN 4

TENTUKANLAH JAWABAN YANG PALING TEPAT !

1. Tokoh berikut yang ikut menandatangani deklarasi Bangkok yang berasal dari Indonesia adalah....
 - A. Narsisco Ramos
 - B. Tun Abdul Rasak
 - C. Adam Malik
 - D. Thanat Khomat

2. Berikut adalah nama negara yang menjadi pemerakarsa berdirinya organisasi ASEAN, Kecuali
- A. Malaysia
 - B. Thailand
 - C. Singapura
 - D. Brunai Darusalam
3. Syal kotak-kotak yang biasanya sering digunakan oleh orang Kamboja disebut
- A. Blangkon
 - B. Ao Dai
 - C. Krama
 - D. Longyi
4. Tagalog merupakan salah satu dialek khas bahasa yang dipergunkan oleh penduduk yang tinggal di negara
- A. Thailand
 - B. Filifina
 - C. Laos
 - D. Myanmar
5. Patung Merlion merupakan salah satu kenampakan buatan yang menjadi ciri khas negara
- A. Malaysia
 - B. Singapura
 - C. Myanmar
 - D. Indonesia

*** Selamat Mengerjakan ***

2021

