



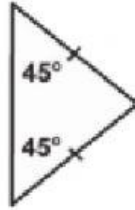
## LEMBAR KERJA PESERTA DIDIK KELAS 4 MENENTUKAN BESAR SUDUT BANGUN SEGITIGA



Tentukanlah besar sudut segitiga yang belum diketahui!

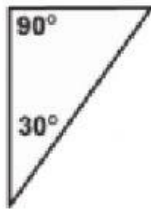


1



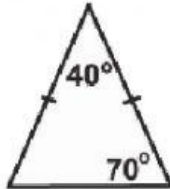
Besar sudut yang belum diketahui adalah.....

2



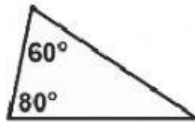
Besar sudut yang belum diketahui adalah.....

3




Besar sudut yang belum diketahui adalah.....

4



Besar sudut yang belum diketahui adalah.....

5



Besar sudut yang belum diketahui adalah.....

