

1º ANO

MATEMÁTICA

Superintendência de
Educação Infantil e
Ensino Fundamental

SEDUC
Secretaria de Estado
da Educação



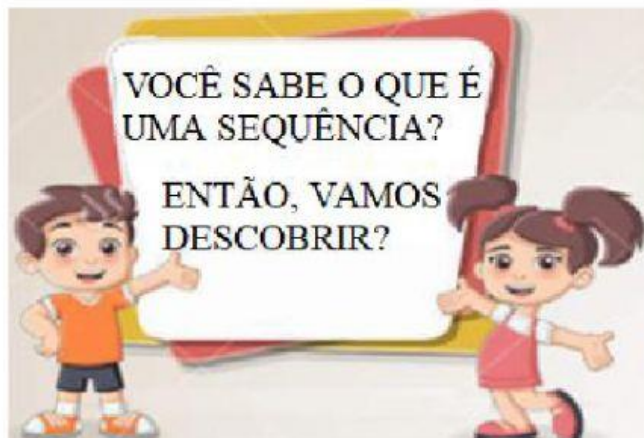
ATIVIDADE 12

TEMA: SEQUÊNCIAS RECURSIVAS.

HABILIDADE: (EF01MA10-C) DESCREVER, ORALMENTE, POR ESCRITO OU POR DESENHO, OS ELEMENTOS AUSENTES EM SEQUÊNCIAS RECURSIVAS DE NÚMEROS NATURAIS, OBJETOS OU FIGURAS.

NOME:

UNIDADE ESCOLAR:



Disponível em <https://pt.dreamstime.com/ilustra%C3%A7%C3%A3o-stock-projete-fundos-do-quadro-de-caixa-do-texto-com-crian%C3%A7as-dos-desenhos-animados-image78982994>. Adaptado. Acesso dia 07 de Jun. de 2021.

OBSERVE AS IMAGENS



NESSA IMAGEM OS NÚMEROS ESTÃO ORGANIZADOS EM UMA SEQUÊNCIA DE 1, 2, 3, 4, 5, 6, 7, 8, 9 E 10.

Disponível em <https://www.turminha.com.br/atividade-educativa/centopeia-e-os-numeros>. Adaptado. Acesso dia 07 de Jun. de 2021.



BONECA



PIPA



BONECA



PIPA



BONECA



PIPA

NESSA IMAGEM OS BRINQUEDOS SEGUEM A SEGUINTE SEQUÊNCIA: BONECA, PIPA, BONECA, PIPA, BONECA E PIPA.

Disponível em https://br.freepik.com/vetores-premium/conjunto-de-brinquedos_3101588.htm. Adaptado. Acesso dia 07 de Jun. de 2021.

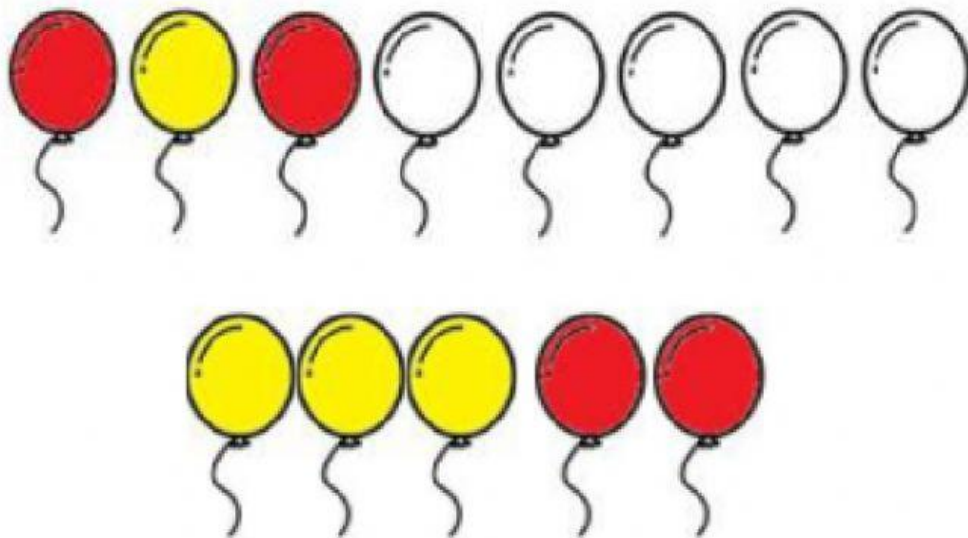
AGORA VOCÊ JÁ SABE QUE SEQUÊNCIA É UM CONJUNTO DE NÚMEROS, OBJETOS OU IMAGENS DISPOSTAS EM UMA ORDEM. ENTÃO, INICIE SUAS ATIVIDADES.

1. DANIEL ESTÁ MERGULHANDO E ENCONTROU 10 ESTRELAS-DO-MAR. ELE PRECISA DE AJUDA PARA NUMERÁ-LAS NA SEQUÊNCIA DE 1 A 10.



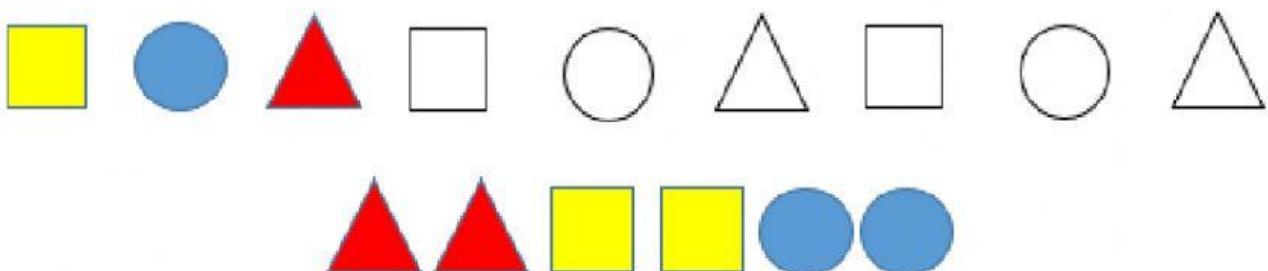
Disponível em <https://www.elo7.com.br/kit-adesivos-fundo-do-mar/dp/D63B5A>. Adaptado. Acesso dia 07 de Jun. de 2021.

2. OBSERVE COMO OS BALÕES FORAM PINTADOS. ARRASTE OS DE ACORDO COM A SEQUÊNCIA DAS CORES.



Disponível em <https://br.pinterest.com/pin/41095415339789692/>. Adaptado. Acesso dia 07 de Jun. de 2021.

3. VEJA AS FORMAS GEOMÉTRICAS ARRASTE OS CONFORME A SEQUÊNCIA.





4. OS URSINHOS A SEGUIR FORAM PINTADOS DE VERDE OU AZUL. NESSA SEQUÊNCIA FICOU FALTANDO PINTAR UM URSINHO. QUAL A COR QUE FALTOU?



Disponível em <https://www.istockphoto.com/br/vetor/grandes-conjuntos-de-brinquedos-diferentes-no-fundo-branco-gm1217289140-355266643>. Adaptado. Acesso dia 08 de Jun. de 2021.

5. DESCUBRA O SEGREDO DA SEQUÊNCIA DAS BOLINHAS E ARRASTE OS QUADRADOS PARA A SEQUENCIA CORRETA.



Disponível em <https://www.soescola.com/2016/07/35-atividades-de-matematica-subtracao-adicao-quantidades-soma.html/docu0021>. Adaptado. Acesso dia 08 de Jun. de 2021.

6. AJUDE MARCELO NA ORGANIZAÇÃO DA SUA COLEÇÃO DE CARRINHOS, COLOCANDO-OS NA ORDEM NUMÉRICA.





Disponível em <https://pt.dreamstime.com/foto-de-stock-grupo-de-carros-coloridos-do-vetor-image32694160>. Adaptado. Acesso dia 08 de Jun. de 2021.

ESCREVA A ORDEM NUMÉRICA DESSA ORGANIZAÇÃO.

--	--	--	--	--	--	--	--	--	--

7. OBSERVE O MATERIAL ESCOLAR E CONTINUE ARRASTANDO A SEQUÊNCIA.



Disponível em https://br.freepik.com/vetores-premium/material-escolar-kawaii-vetor-escolaridade-ferramentas-emoticon-caneta-lapis-coloridos-marcadores_6075255.htm. Adaptado. Acesso dia 08 de Jun. de 2021.

8. DESCUBRA O PADRÃO DAS SEQUÊNCIAS A SEGUIR E PREENCHA OS QUADRADINHOS.

A)

4

8

--

--

20

--

B)

10

--

--

40

--

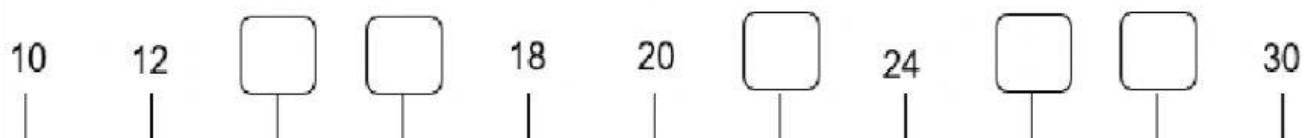
--

9. NAS TABELAS ESTÃO FALTANDO VÁRIOS NÚMEROS. DESCUBRA QUAIS SÃO E COMPLETE.

37		39	
			44
45			48

50			53
54	55		
		60	

10. CONTANDO DE 2 EM 2, PREENCHA A SEQUÊNCIA DA RETA NUMÉRICA.



11. DESCUBRA QUAL O NÚMERO QUE FALTA NA SEQUÊNCIA E MARQUE O ITEM CORRETO.

4, 14, _____, 34, 44, 54, 64.

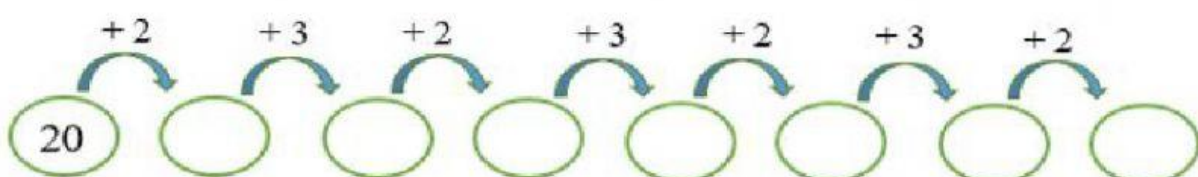
(A) 4

(C) 16

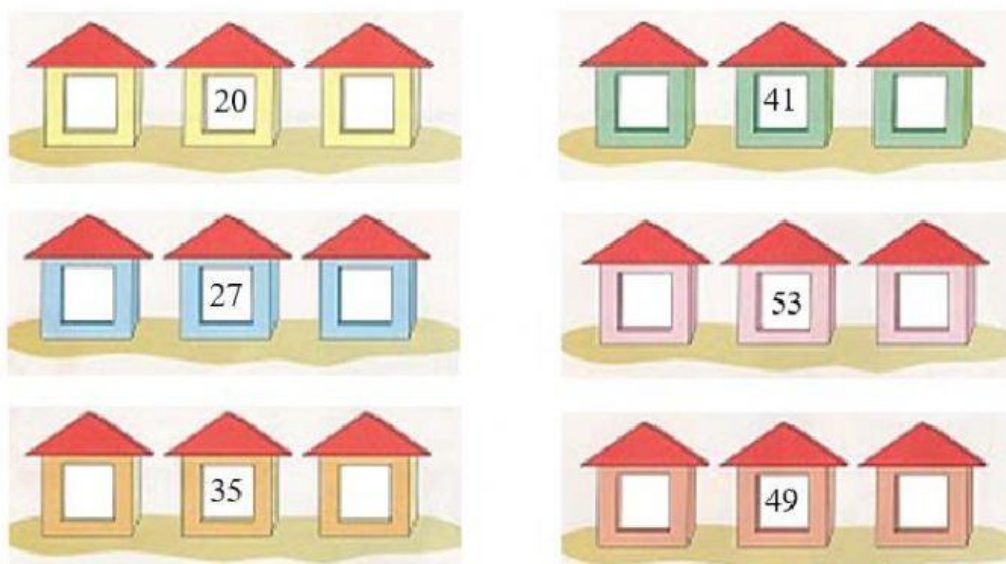
(B) 14

(D) 24

12. CALCULE AS ADIÇÕES E PREENCHA OS CÍRCULOS.



13. ESCREVA DENTRO DAS CASINHAS OS NÚMEROS QUE VEM ANTES E DEPOIS.



Disponível em http://1.bp.blogspot.com/_wDGUF5dt6TQ/S78n35vAiel/AAAAAAAAADM/Rn5UzskeBBI/s1600/digitalizar0056.jpg. Adaptado. Acesso dia 08 de Jun. de 2021.

14. OBSERVE O NÚMERO E MARQUE O ITEM CORRETO.

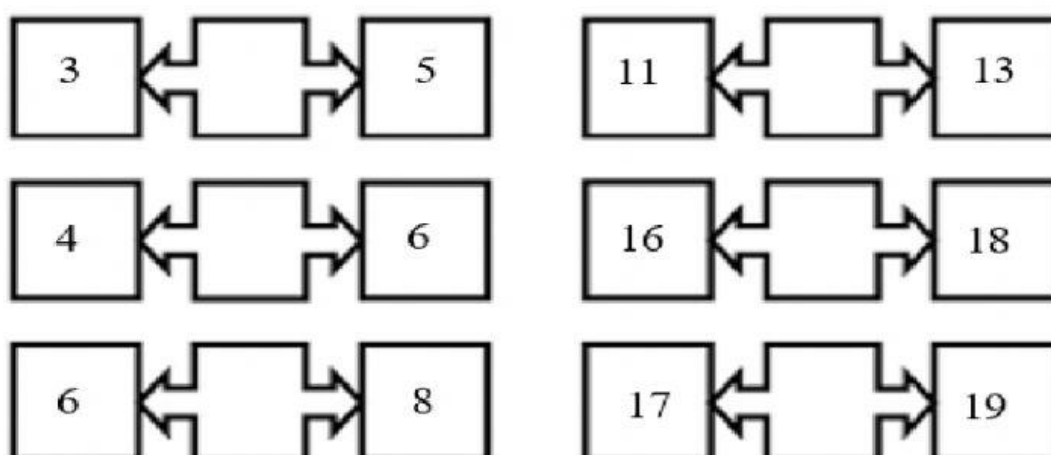
36

O NÚMERO QUE VEM ANTES DE 36 É O

- (A) 34. (C) 37.
(B) 35. (D) 38.

Disponível em https://br.freepik.com/vetores-premium/colecao-de-numeros-coloridos-com-sinais_2237427.htm. Adaptado. Acesso dia 08 de Jun. de 2021.

15. OBSERVE OS NUMERAIS E COMPLETE COM O NÚMERO QUE ESTÁ ENTRE ELES.



Disponível em <https://professoradanielafreitas.blogspot.com/2013/02/antecessor-e-sucessor.html?m=0>. Adaptado. Acesso dia 08 de Jun. de 2021.]